




REGIONE SARDEGNA

Concorso pubblico per titoli ed esami,
per il reclutamento a tempo pieno e indeterminato di n.
40 unità di personale dirigente da inquadrare presso
l'Amministrazione, gli enti, le agenzie, le aziende e gli istituti regionali
che costituiscono il sistema Regione.

PROVA 01

PROVA ESTRATTA



-
- 1 A00001
Chi compone il Consiglio Europeo?
A I Capi di Stato o di Governo dei Paesi membri, il suo Presidente e il Presidente della Commissione europea
B Un commissario per ogni Paese membro
C I soli ministri degli Esteri di ciascun Paese membro
D Tutti i ministri dei Paesi membri
-
- 2 A00002
Il Presidente del Parlamento europeo è eletto:
A dallo stesso Parlamento, tra i suoi membri
B dal Consiglio dell'Unione, tra i membri del Parlamento
C dallo stesso Parlamento, tra i membri del Consiglio
D dal Consiglio europeo
-
- 3 A00003
Per esercitare le competenze dell'Unione Europea, le istituzioni adottano regolamenti, direttive, decisioni, raccomandazioni e pareri. Quale di essi vincola lo Stato a cui è rivolto, per quanto riguarda il risultato da raggiungere?
A La direttiva
B Il regolamento
C La raccomandazione
D Il parere
-
- 4 A00004
Il mandato della Commissione europea dura:
A cinque anni
B sette anni
C quattro anni
D dieci anni
-
- 5 A00005
Ai sensi della legge 241/1990, il Governo ha facoltà di escludere il diritto di accesso ai documenti amministrativi?
A Sì, nei limiti previsti dalla stessa legge e purché abbia emanato un regolamento che determini i casi di esclusione
B No, mai, in quanto il diritto di accesso agli atti amministrativi è costituzionalmente garantito e quindi preminente rispetto a qualsiasi altro interesse
C Esclusivamente quando i documenti siano strettamente connessi alla prevenzione di atti terroristici o di atti diretti a sovvertire l'ordinamento costituzionale
D Sì, previa autorizzazione della Commissione per la Garanzia del Diritto di Accesso
-
- 6 A00006
Ai sensi della legge 241/1990, la P.A. può concludere accordi con gli interessati?
A Sì, al fine di determinare il contenuto discrezionale del provvedimento finale ovvero in sostituzione di questo
B No, può concludere solo accordi con altre P.A.
C Sì, ma esclusivamente in sostituzione del provvedimento finale
D Sì, ma non al fine di determinare il contenuto discrezionale del provvedimento finale
-

- 7 **Secondo la legge 241/1990, il provvedimento amministrativo è annullabile:**
- A** qualora sia viziato da eccesso di potere
 - B** quando sia stato adottato in violazione del giudicato
 - C** quando sia viziato da un difetto assoluto di attribuzione
 - D** per mancata comunicazione dell'avvio del procedimento, anche qualora l'Amministrazione dimostri in giudizio che il contenuto del provvedimento non avrebbe potuto essere diverso da quello in concreto adottato

- 8 **Secondo l'articolo 70 del d.P.R. 445/2000, le Pubbliche Amministrazioni devono assicurare, per ogni aggiornamento del sistema informatico:**
- A** il pieno recupero e la riutilizzazione delle informazioni acquisite con le versioni precedenti
 - B** un adeguato recupero e la riutilizzazione delle informazioni acquisite con le versioni precedenti
 - C** il pieno recupero delle informazioni acquisite con le versioni precedenti, non necessariamente accompagnato dalla riutilizzazione
 - D** la cancellazione delle informazioni acquisite con le versioni precedenti

- 9 **Ai sensi del d.lgs. 82/2005, si intende per "interoperabilità" la caratteristica di un sistema informativo, le cui interfacce sono pubbliche e aperte, di interagire in maniera:**
- A** automatica con altri sistemi informativi per lo scambio di informazioni e l'erogazione di servizi
 - B** preferenziale con altri sistemi informativi per lo scambio di informazioni e l'erogazione di servizi
 - C** informatica con altri sistemi informativi per lo scambio di informazioni e l'erogazione di servizi
 - D** meccanica con altri sistemi informativi per lo scambio di informazioni e l'erogazione di servizi

- 10 **Quale limitazione subisce, in base alla Costituzione italiana, un pubblico impiegato che sia anche membro del Parlamento?**
- A** Non può conseguire promozioni se non per anzianità
 - B** Non può andare in pensione
 - C** Nessuna limitazione
 - D** Non può conseguire promozioni in nessun caso finché è membro del Parlamento

- 11 **Le Regioni possono stipulare trattati internazionali?**
- A** No, mai
 - B** Solo con Regioni estere, mai con Stati
 - C** Solo le Regioni a statuto speciale
 - D** Sì, nelle materie di competenza esclusiva

- 12 **In base all'articolo 10 della Costituzione italiana, l'ordinamento giuridico italiano deve conformarsi alle norme del diritto internazionale?**
- A** Sì, se si tratta di norme generalmente riconosciute
 - B** No, perché il legislatore italiano è sovrano
 - C** Sì, ma solo alle norme dettate dall'ONU
 - D** Sì, ma solo alle norme dettate dall'UE

-
- 13 A00013
Secondo la Costituzione italiana, come modificata dalla legge costituzionale 1/2020, quale dei seguenti organi si compone di quattrocento membri?
- A** La Camera dei Deputati
 - B** La riunione plenaria dello Stato, composta da tutti i Deputati e i Senatori, i membri del Governo e il Presidente della Repubblica
 - C** Il Parlamento
 - D** Il Senato della Repubblica
-
- 14 A00014
Ai sensi dell'art. 16 del d.lgs. 165/2001, i dirigenti degli uffici dirigenziali generali:
- A** promuovono e resistono alle liti
 - B** formulano pareri, purché su richiesta del Consiglio di Stato
 - C** decidono sui ricorsi straordinari, avverso i provvedimenti delle articolazioni periferiche dell'Amministrazione
 - D** sottoscrivono i ricorsi giurisdizionali, avverso gli atti della propria Amministrazione
-
- 15 A00015
Secondo l'art. 36 del d.lgs. 165/2001 e s.m.i., le Pubbliche Amministrazioni possono stipulare contratti di somministrazione di lavoro?
- A** Sì, a tempo determinato
 - B** Sì, a tempo determinato e indeterminato
 - C** Sì, a tempo indeterminato
 - D** No, non possono
-
- 16 A00016
In base al Codice dei contratti pubblici (d.lgs. 36/2023), la progettazione in materia di lavori pubblici è volta ad assicurare tutte le seguenti opzioni, TRANNE:
- A** la corretta gestione del ciclo di vita del contratto pubblico
 - B** il soddisfacimento dei fabbisogni della collettività
 - C** il rispetto di quanto previsto dalla normativa in materia di tutela della salute
 - D** il rispetto di tutti i vincoli esistenti
-
- 17 A00017
In base all'art. 57 del Codice dei contratti pubblici (d.lgs. 36/2023), per gli affidamenti dei contratti di appalto di lavori e servizi diversi da quelli aventi natura intellettuale, i bandi di gara, gli avvisi e gli inviti devono contenere specifiche clausole sociali con le quali sono richieste determinate misure. NON rientrano però tra queste ultime le misure orientate a garantire:
- A** la libertà di pensiero dei lavoratori, inclusi quelli in subappalto
 - B** le pari opportunità generazionali
 - C** la stabilità occupazionale del personale impiegato
 - D** l'applicazione dei contratti collettivi nazionali e territoriali di settore
-
- 18 A00018
In base al Codice dei contratti pubblici (d.lgs. 36/2023), se, in esito all'esperimento di una procedura aperta, non è stata presentata alcuna offerta, le stazioni appaltanti possono ricorrere a:
- A** una procedura negoziata senza pubblicazione di un bando
 - B** una procedura ristretta
 - C** una procedura competitiva con negoziazione
 - D** un dialogo competitivo
-

- 19 In base al Codice dei contratti pubblici (d.lgs. 36/2023), il sistema digitale di monitoraggio delle prestazioni degli operatori istituito presso l'ANAC è fondato su accertamenti definitivi, che esprimono, tra l'altro:
- A** l'affidabilità dell'impresa in fase esecutiva
 - B** la solidità patrimoniale dell'impresa
 - C** il grado di innovazione dell'impresa
 - D** le condizioni eccezionalmente favorevoli di cui dispone l'impresa per fornire quanto richiesto

- 20 Ai sensi dell'articolo 17 del Regolamento UE 679/2016 (GDPR), il titolare del trattamento:
- A** ha l'obbligo di cancellare senza ingiustificato ritardo i dati personali dell'interessato che ne abbia fatto richiesta, salvo eccezioni previste dallo stesso articolo
 - B** ha la facoltà, ma non l'obbligo, di cancellare i dati personali dell'interessato che ne abbia fatto richiesta
 - C** deve sempre cancellare i dati personali dell'interessato entro sei mesi dalla sua richiesta
 - D** deve sempre cancellare i dati personali dell'interessato entro dodici mesi dalla sua richiesta

- 21 In base al d.lgs. 33/2013, la trasparenza dei dati e dei documenti detenuti dalle Pubbliche Amministrazioni è intesa come:
- A** accessibilità totale
 - B** conoscibilità condizionata
 - C** facile reperibilità
 - D** disponibilità a richiesta qualificata

- 22 Ai sensi del d.lgs. 33/2013, quale, tra i seguenti, NON è un interesse pubblico il cui pregiudizio può giustificare il diniego del diritto di accesso civico generalizzato a dati e documenti?
- A** La politica e la stabilità finanziaria ed economica delle aziende industriali private
 - B** Le relazioni internazionali
 - C** Il regolare svolgimento di attività ispettive
 - D** La conduzione di indagini sui reati e il loro perseguimento

- 23 Ai sensi dell'art. 1, comma 7, della legge 190/2012, il Responsabile della prevenzione della corruzione e della trasparenza di una Pubblica Amministrazione viene individuato:
- A** dall'organo di indirizzo della Pubblica Amministrazione interessata
 - B** dall'Autorità nazionale anticorruzione
 - C** dall'organismo indipendente di valutazione
 - D** dai dirigenti in servizio

- 24 Gli studi intesi a rinnovare le politiche del personale negli Enti pubblici mettono in luce come l'approccio strategico alla gestione delle risorse umane debba produrre:
- A** una nuova logica di programmazione
 - B** la determinazione di una responsabilità oggettiva per gli organi, gli uffici e le persone che sono titolari degli atti formali
 - C** l'eliminazione della discrezionalità nello svolgimento delle attività dell'Ente
 - D** una riduzione dei costi legati al personale

- 25 Il processo di programmazione e controllo dell'attività dell'Ente pubblico si compone di quattro fasi. Qual è il loro corretto ordine cronologico?
- A Programmazione; budgeting; svolgimento e misurazione dei risultati dell'attività gestionale; reporting e valutazione
 - B Budgeting; programmazione; svolgimento e misurazione dei risultati dell'attività gestionale; reporting e valutazione
 - C Programmazione; budgeting; reporting e valutazione; svolgimento e misurazione dei risultati dell'attività gestionale
 - D Svolgimento e misurazione dei risultati dell'attività gestionale; budgeting; programmazione; reporting e valutazione

- 26 La gestione finanziaria degli Enti pubblici si è orientata sul cosiddetto Modello di finanza autonoma. Quale dei seguenti è un vantaggio che esso arreca?
- A La politica delle entrate viene correlata alla politica dei servizi e delle funzioni
 - B Possibilità di una visione unitaria delle politiche fiscali
 - C Deresponsabilizzazione degli Enti pubblici riguardo l'economicità della loro gestione
 - D Maggior possibilità di applicare i principi della specializzazione e della professionalità alla funzione di raccolta tributi

- 27 Nel mondo della Pubblica Amministrazione si è ormai affermato il concetto di marketing pubblico. Esso trova applicazione in determinati ambiti d'azione, ognuno dei quali ha specifici obiettivi di riferimento. Quale delle seguenti affermazioni a proposito degli ambiti di azione del marketing pubblico è ERRATA?
- A Marketing sociale: ha come obiettivo l'acquisizione e il mantenimento del consenso elettorale
 - B Marketing istituzionale: è finalizzato al rafforzamento dell'immagine dell'Ente e a indirizzare le aspettative della collettività
 - C Marketing dei servizi: riguarda la definizione delle caratteristiche dell'offerta, sviluppandola sulla base di un processo di analisi della domanda e dei bisogni
 - D Marketing territoriale: ha l'obiettivo di creare valore per il territorio favorendone lo sviluppo e aumentandone l'attrattività turistica o economica

- 28 La gestione finanziaria degli Enti pubblici comprende, tra l'altro, la "gestione caratteristica". Quale dei seguenti NON è un elemento di quest'ultima?
- A Proventi del patrimonio
 - B Tributi
 - C Prezzi per i servizi erogati
 - D Trasferimenti da altri Enti pubblici

- 29 Recentemente, si è diffuso nella Pubblica Amministrazione il concetto di "qualità totale" o Total Quality Management. Esso si fonda su alcuni principi fondamentali, ma uno dei seguenti NON rientra in essi. Quale?
- A L'equivalenza tra correttezza formale e funzionalità
 - B Il cliente-utente è il riferimento principale per la determinazione della qualità dei servizi
 - C La qualità va progettata sin dall'origine
 - D Il miglioramento continuo

- 30 In base all'Allegato 1 del d.lgs. 118/2011, in applicazione del principio della prudenza, nei documenti contabili di rendicontazione:
- A** le componenti positive non realizzate non devono essere contabilizzate, mentre le componenti negative devono essere contabilizzate anche se non sono definitivamente realizzate
 - B** non devono mai essere contabilizzate componenti non realizzate
 - C** le componenti positive non realizzate devono essere contabilizzate, mentre le componenti negative non devono essere contabilizzate se non sono definitivamente realizzate
 - D** tutte le componenti, attive e passive, devono sempre essere contabilizzate, anche se non sono definitivamente realizzate

- 31 Ai sensi dell'art. 18 del decreto legislativo 118/2011, le Amministrazioni Pubbliche tenute all'approvazione del bilancio di previsione o del budget economico devono approvarlo entro il:
- A** 31 dicembre dell'anno precedente
 - B** 30 novembre dell'anno precedente
 - C** 31 gennaio dell'anno a cui i documenti si riferiscono
 - D** 30 settembre dell'anno precedente

- 32 In base al Manuale dei principi e delle regole di contabilità economica della Regione autonoma della Sardegna, ... ha come scopo quello di rappresentare l'entrata e la spesa in tutte le fasi.
- A** la contabilità finanziaria
 - B** la contabilità economico-patrimoniale
 - C** la contabilità economico-analitica
 - D** la contabilità semplificata

- 33 In base al Manuale dei principi e delle regole di contabilità economica della Regione autonoma della Sardegna, quale dei seguenti è una componente dell'attivo dello stato patrimoniale?
- A** Le immobilizzazioni
 - B** Il patrimonio netto
 - C** I fondi per rischi e oneri
 - D** I risconti passivi

- 34 In base al Codice di comportamento del personale del sistema Regione e delle società partecipate della Sardegna, il personale può sollecitare regali da soggetti nei cui confronti lo stesso dipendente è chiamato a esercitare potestà proprie dell'ufficio ricoperto?
- A** No, non può
 - B** Può solo nel caso in cui il regalo sia di modico valore
 - C** Può, se il fatto non costituisce reato
 - D** Può, se il soggetto non trae beneficio dall'attività dell'ufficio

35 In base al Codice di comportamento del personale del sistema Regione e delle società partecipate della Sardegna, il personale che sia venuto a conoscenza, in ragione del rapporto di lavoro, di eventuali situazioni di condotte illecite nell'Amministrazione:

- A** è tenuto a inoltrare un'apposita segnalazione direttamente al Responsabile della prevenzione della corruzione
- B** è tenuto a inoltrare un'apposita segnalazione al suo sovraordinato
- C** è tenuto a presentare un ricorso gerarchico
- D** è sempre tenuto a effettuare una denuncia all'autorità giudiziaria o contabile

36 In base al Codice di comportamento del personale del sistema Regione e delle società partecipate della Sardegna, il personale utilizza i permessi di astensione dal lavoro:

- A** nel rispetto delle condizioni previste dalla legge, dai regolamenti e dai contratti collettivi
- B** in autonomia, con il solo obbligo del rispetto della legge penale
- C** secondo le indicazioni di volta in volta impartite dal suo sovraordinato
- D** con moderazione

37 In base allo Statuto della Regione Sardegna (l. cost. 3/1948), costituiscono entrate della Regione ... del gettito delle imposte sul bollo.

- A** i nove decimi
- B** i sette decimi
- C** i cinque decimi
- D** i dieci decimi

38 In base allo Statuto della Regione Sardegna (l. cost. 3/1948), il Consiglio regionale può essere sciolto per tutte le seguenti ragioni, TRANNE una. Quale?

- A** Quando le Camere si pronuncino contro una legge regionale, a seguito della promozione, ad opera del Governo, della questione di merito per contrasto di interessi
- B** Quando il Consiglio compia atti contrari alla Costituzione
- C** Quando, nonostante la segnalazione fatta dal Governo della Repubblica, il Consiglio non proceda alla sostituzione della Giunta regionale che abbia compiuto atti contrari allo Statuto
- D** In caso di morte del Presidente della Regione, se eletto a suffragio universale e diretto

39 In base allo Statuto della Regione Sardegna (l. cost. 3/1948), le sedute del Consiglio regionale:

- A** sono pubbliche, a meno che sia deliberato di riunirsi in seduta segreta
- B** sono segrete, a meno che sia deliberato di riunirsi in seduta pubblica
- C** sono segrete, a meno che ne facciano richiesta 1/3 dei componenti del Consiglio o 30.000 elettori
- D** sono sempre segrete

40 In base alla legge 1/1977 della Regione Sardegna, tutti i seguenti sono Assessorati, TRANNE:

- A** innovazione e ricerca
- B** affari generali, personale e riforma della Regione
- C** agricoltura e riforma agro-pastorale
- D** lavoro, formazione professionale, cooperazione e sicurezza sociale

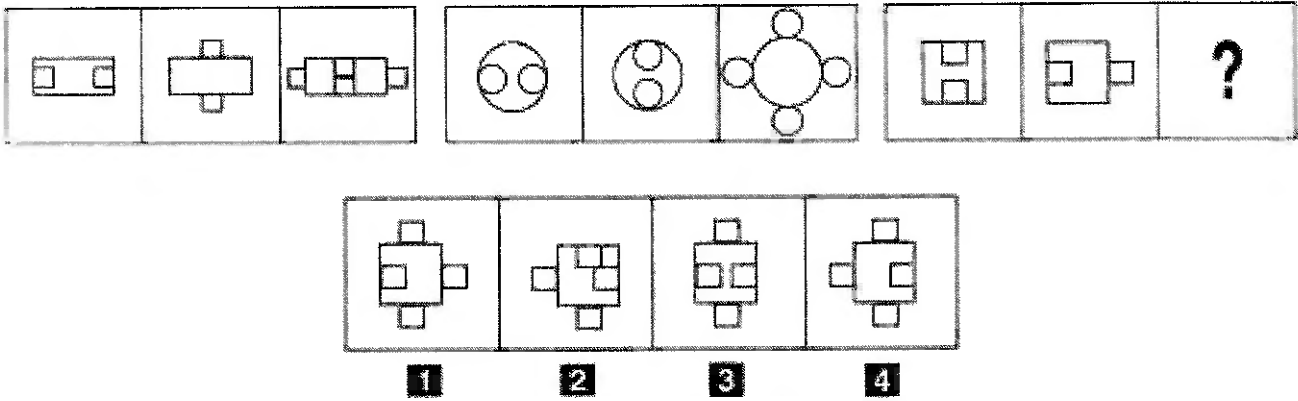
- 41 "La perizia calligrafica non ha consentito di dimostrare l'impossibilità che la signora Gina abbia firmato l'assegno." Qual è il corretto significato della precedente affermazione?
- A** È possibile che la signora Gina non abbia firmato l'assegno
 - B** È impossibile che la signora Gina abbia firmato l'assegno
 - C** La perizia calligrafica ha dimostrato che la signora Gina non può aver firmato l'assegno
 - D** La perizia calligrafica ha dimostrato che la signora Gina ha firmato l'assegno

- 42 "Il cinema resterà chiuso al pubblico se e solo se i proprietari faranno opere di restauro". In base alla precedente affermazione, quale delle seguenti NON è necessariamente vera?
- A** Anche se i proprietari faranno opere di restauro, il cinema potrà restare aperto al pubblico
 - B** Il cinema resterà aperto al pubblico se i proprietari non faranno opere di restauro
 - C** Se il cinema sarà aperto al pubblico, significa che i proprietari non staranno facendo opere di restauro
 - D** È sufficiente che i proprietari facciano opere di restauro per chiudere il cinema al pubblico

- 43 "Chi va al cinema mangia i pop corn. Tutti i giovani mangiano i pop corn. Roberto va al cinema". Se le precedenti affermazioni sono vere, quale delle seguenti è necessariamente vera?
- A** Roberto mangia i pop corn
 - B** Roberto è giovane
 - C** Chi mangia i pop corn va al cinema
 - D** Chi va al cinema è giovane

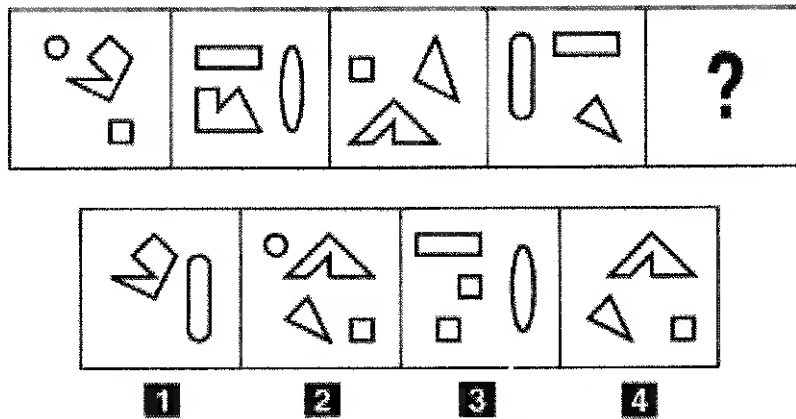
- 44 Quale alternativa completa correttamente la seguente proporzione verbale? Insipido : saporito = X : stantio
- A** X = fresco
 - B** X = forte
 - C** X = rancido
 - D** X = ringalluzzito

FIGURA SU 44



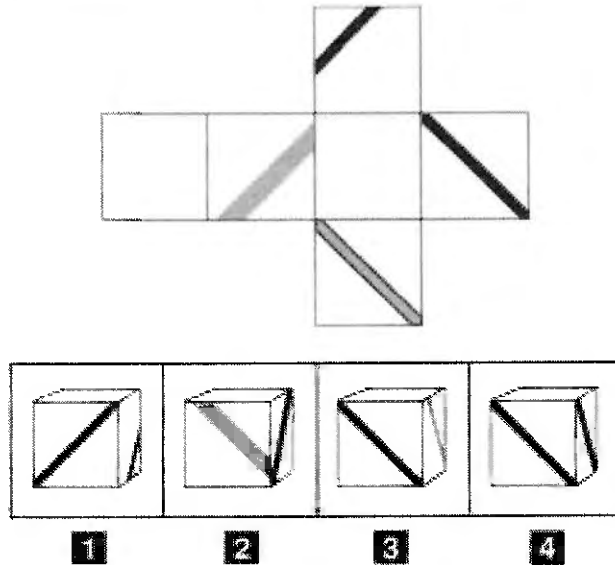
- 45 Rispondere al seguente quesito facendo riferimento alla FIGURA SU 44
Individuare la figura che completa la serie. A00045
- A** Figura 4
 - B** Figura 3
 - C** Figura 1
 - D** Figura 2

FIGURA ST 18



- 46 Rispondere al seguente quesito facendo riferimento alla FIGURA ST 18
Individuare la figura che completa la serie. A00046
- A** Figura 4
 - B** Figura 2
 - C** Figura 3
 - D** Figura 1

FIGURA TT 33



47 Rispondere al seguente quesito facendo riferimento alla FIGURA TT 33 A00047

Quale delle figure proposte corrisponde alla composizione volumetrica della figura piana data?

- A** Figura 1
- B** Figura 3
- C** Figura 2
- D** Figura 4

FIGURA TZ 84

R		N	A	T	O
R	A		A	T	O
R		M	A	T	O

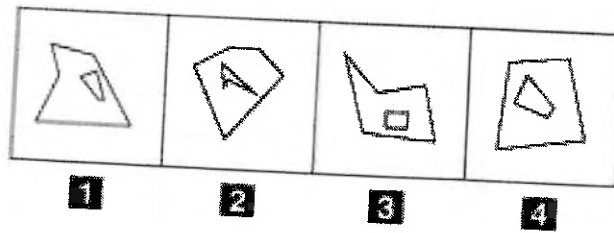
A	I	E	I
N	V	S	M
E	A	U	I

48 Rispondere al seguente quesito facendo riferimento alla FIGURA TZ 84 A00048

In quale dei quattro tasselli proposti sono contenute le lettere mancanti che permettono di formare tre parole di senso compiuto?

- A** Il tassello 4
- B** Il tassello 2
- C** Il tassello 1
- D** Il tassello 3

FIGURA SZ 30



49 Rispondere al seguente quesito facendo riferimento alla FIGURA SZ 30
Individuare la figura da scartare.

A00049

- A** Figura 4
- B** Figura 1
- C** Figura 3
- D** Figura 2

DIAGRAMMA RY 00

Individuare la relazione insiemistica esistente tra i termini dati.



DIAGRAMMA 1



DIAGRAMMA 2



DIAGRAMMA 3



DIAGRAMMA 4



DIAGRAMMA 5



DIAGRAMMA 6




DIAGRAMMA 7

50 Rispondere al seguente quesito facendo riferimento al DIAGRAMMA RY 00
Elefanti, Leoni, Domatori

A00050

- A** Diagramma 6
- B** Diagramma 4
- C** Diagramma 5
- D** Diagramma 1

51 Estraeendo una pallina da un'urna contenente 100 palline, di cui 25 blu, 15 rosse e 60 gialle, qual è la probabilità che esca una pallina blu?

A00051

- A** 1/4
- B** 1/5
- C** 1/2
- D** 1/8

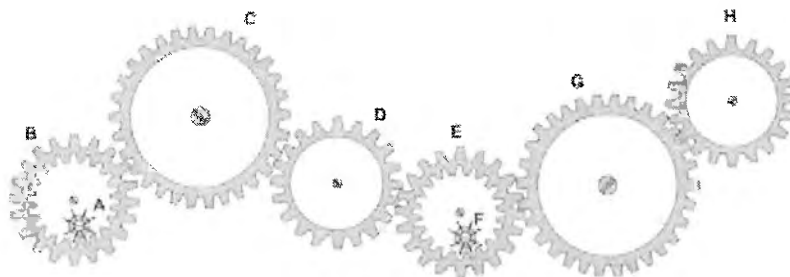
- 52 Un capitale di 300 milioni è depositato in banca ed è soggetto a un interesse annuo del 3%. A quanto ammonterà il capitale dopo un anno?
- A** 309 milioni
 - B** 330 milioni
 - C** 303 milioni
 - D** 900 milioni

- 53 Il peso lordo di un container è di 8.500 kg e la tara è pari al 12%; il peso netto sarà quindi di kg:
- A** 7.480
 - B** 10.200
 - C** 9.520
 - D** 1.020

- 54 Alice e Bruno tinteggiano un muretto di 50 metri. Per tinteggiare un metro di muretto, Alice impiega 30 minuti mentre Bruno procede a una velocità superiore del 50%. Quante ore di lavoro saranno necessarie a tinteggiare tutto il muretto?
- A** 10
 - B** 12
 - C** 5
 - D** 1,5

FIGURA ST 86

Nel sistema raffigurato, le ruote dentate sono libere di ruotare attorno a un perno fisso.



- 55 Rispondere al seguente quesito facendo riferimento alla FIGURA ST 86
- Se la ruota dentata C gira in senso antiorario, in quale senso gira la ruota dentata G?
- A** In senso inverso rispetto alla ruota dentata H
 - B** In senso antiorario
 - C** Nello stesso senso della ruota dentata H
 - D** Nello stesso senso della ruota piccola F

56 Se le lancette di un orologio segnano le 3.30 di lunedì, tra 44 ore e 45 minuti saranno:

- A le 0.15 di mercoledì
- B le 12.15 di giovedì
- C le 20.15 di martedì
- D le 2.15 di martedì

57 In un ipotetico linguaggio in codice, al codice CASAMESERASA corrisponde la parola CAMERA e al codice TESETTOSO corrisponde la parola TETTO. Quale sarà la parola corrispondente al codice BASASTOSONESE?

- A BASTONE
- B BASTIONE
- C BASALE
- D SASSONE

58 Un gioco ha le seguenti regole: se un numero è divisibile per 5 vale 4 punti; se è divisibile per 8 vale 3 punti. In base a tali regole, quale dei seguenti numeri vale di più?

- A 40
- B 24
- C 48
- D 56

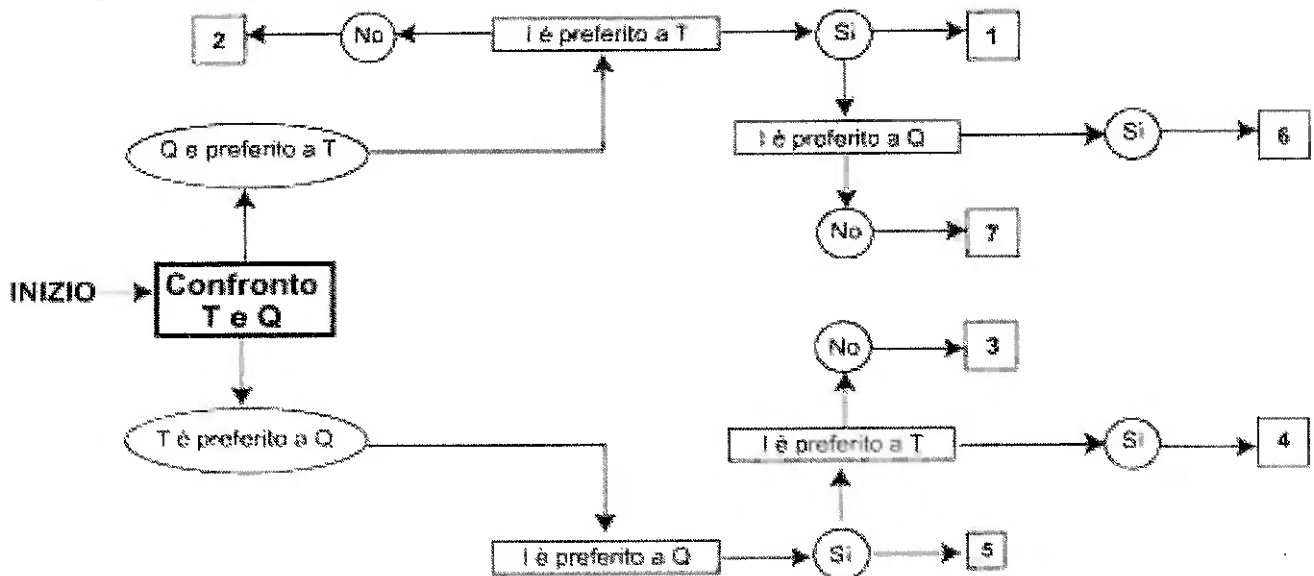
59 Utilizzando l'alfabeto italiano per la parte letterale, completare la seguente successione alfanumerica: S; 17; C; 18; L; 35; S; 53; ?; ?

- A C; 88
- B C; 47
- C D; 65
- D C; 62

DIAGRAMMA SZ 14

Una società sottopone ai propri dipendenti un test per conoscere le loro abitudini. Una domanda verte su quale sia il canale seguito per conoscere le notizie. La classifica avviene valutando a due a due tre mezzi di comunicazione, giudicandone sempre uno come preferito all'altro e mai due come ugualmente preferiti. L'obiettivo quindi è stabilire un ordine di preferenza generale tra i dipendenti.

T = telegiornale, Q = quotidiano, I = Internet.



60

Rispondere al seguente quesito facendo riferimento al DIAGRAMMA SZ 14

A00060

Indicare l'ordine di preferenze tra I, Q e T risultante alla casella "1" del diagramma.

- A** È possibile più di un ordine
- B** Non è possibile stabilire alcun ordine
- C** ITQ
- D** IQT



REGIONE SARDEGNA

Concorso pubblico per titoli ed esami,
per il reclutamento a tempo pieno e indeterminato di n.
40 unità di personale dirigente da inquadrare presso
l'Amministrazione, gli enti, le agenzie, le aziende e gli istituti regionali
che costituiscono il sistema Regione.

PROVA 02

Prova non esatta



1 Secondo il Trattato sull'Unione Europea, il Consiglio esercita la funzione legislativa e la funzione di bilancio:

- A** congiuntamente al Parlamento europeo
- B** in piena autonomia decisionale
- C** congiuntamente al Parlamento europeo e alla Commissione
- D** rispettivamente, in forma congiunta al Parlamento europeo e alla Commissione

2 Il Parlamento europeo è eletto:

- A** a suffragio universale ogni cinque anni dai cittadini di tutti i Paesi dell'Unione
- B** a suffragio universale ogni sette anni dai cittadini di tutti i Paesi dell'Unione
- C** dai Parlamenti di tutti i Paesi dell'Unione, ogni sette anni
- D** dai Governi di tutti i Paesi dell'Unione, ogni cinque anni

3 In base all'articolo 288 del Trattato sul Funzionamento dell'Unione Europea (TFUE), i pareri adottati dalle istituzioni dell'Unione Europea costituiscono atti:

- A** non vincolanti
- B** vincolanti, al pari delle raccomandazioni
- C** vincolanti, salvo casi particolari individuati nello stesso articolo
- D** obbligatori, ma non direttamente applicabili

4 La Commissione europea è un organo:

- A** esecutivo dell'UE
- B** decisionale dell'UE
- C** consultivo dell'UE
- D** giudiziario dell'UE

5 In base all'art. 24 della legge 241/1990, quando è escluso il diritto di accesso ai documenti amministrativi?

- A** Nei procedimenti selettivi, nei confronti dei documenti amministrativi contenenti informazioni di carattere psico-attitudinale relativi a terzi
- B** Quando lo ritenga opportuno la P.A. procedente
- C** Quando il responsabile del procedimento abbia constatato che l'interesse pubblico perseguito dal provvedimento amministrativo finale sia preminente rispetto agli interessi privati eventualmente coinvolti
- D** Nei procedimenti che coinvolgano dati di carattere religioso

6 In base alla legge 241/1990 e s.m.i., la P.A. può concludere accordi con i privati e tali accordi:

- A** devono essere stipulati, a pena di nullità, per atto scritto, salvo che la legge disponga altrimenti
- B** possono essere stipulati in forma libera, salvo che la legge disponga altrimenti
- C** devono essere stipulati, a pena di nullità, per atto pubblico notarile
- D** devono essere stipulati sempre ed esclusivamente in forma scritta, anche qualora la legge disponga diversamente

- 7 I vizi formali dell'atto amministrativo, ai sensi dell'art. 21-octies della legge 241/1990, conducono all'annullabilità?
- A** Sì, fatto salvo il caso in cui il provvedimento violi norme relative al procedimento o sulla forma degli atti e, a causa della natura vincolata del provvedimento, sia palese che non sia possibile un diverso contenuto dispositivo
 - B** No, mai
 - C** No, se non esistono controinteressati
 - D** Nessuna delle altre alternative è corretta

- 8 A norma dell'art. 71 del d.P.R. 445/2000, qualora le dichiarazioni sostitutive di certificazioni presentino omissioni rilevabili d'ufficio, non costituenti falsità, e l'interessato, ricevutane notizia dal funzionario competente a ricevere la documentazione, non procede al completamento della dichiarazione:
- A** il procedimento non ha seguito
 - B** all'interessato può essere comminata una sanzione amministrativa
 - C** il funzionario o un suo delegato procederà alla regolarizzazione entro 60 giorni, tramite accertamento diretto dei dati presso l'Amministrazione certificante
 - D** il procedimento ha comunque seguito, ma, se non viene regolarizzato entro una settimana dalla sua conclusione, viene considerato nullo

- 9 Ai sensi dell'art. 1 del d.lgs. 82/2005, si intende per "gestore di posta elettronica certificata" il soggetto che presta servizi di:
- A** trasmissione dei documenti informatici mediante la posta elettronica certificata
 - B** supporto dei documenti informatici mediante la posta elettronica certificata
 - C** trasmissione dei documenti cartacei mediante la posta elettronica certificata
 - D** trasmissione dei documenti informatici mediante la posta elettronica ordinaria

- 10 In base alla Costituzione italiana, i pubblici uffici sono organizzati:
- A** secondo disposizioni di legge
 - B** con disposizioni degli Enti territoriali
 - C** con circolari interpretative
 - D** secondo regole consuetudinarie

- 11 Quale, tra le seguenti, è una materia di legislazione concorrente Stato-Regioni secondo l'art. 117 della Costituzione italiana?
- A** Produzione, trasporto e distribuzione nazionale dell'energia
 - B** Previdenza sociale
 - C** Tutela dell'ambiente, dell'ecosistema e dei beni culturali
 - D** Sicurezza dello Stato

- 12 Secondo l'articolo 5 della Costituzione italiana, come si pone la Repubblica rispetto alle autonomie locali?
- A** Le riconosce e le promuove
 - B** Le incentiva e le sovvenziona
 - C** Ne detta la relativa regolamentazione
 - D** Tende a limitarle il più possibile

- 13 In base all'articolo 56 della Costituzione italiana, a partire da quale età si può essere eletti deputati in Italia?
- A** 25 anni
 - B** 45 anni
 - C** 21 anni
 - D** 18 anni

- 14 A norma del d.lgs. 165/2001 e s.m.i., quale tra le competenze indicate nelle seguenti alternative **NON** rientra tra quelle dei dirigenti di uffici dirigenziali generali?
- A** Relazionare ogni anno alla Corte dei Conti sul proprio operato
 - B** Curare i rapporti con gli uffici dell'Unione Europea e degli organismi internazionali nelle materie di competenza
 - C** Dirigere, coordinare e controllare l'attività dei dirigenti e dei responsabili dei procedimenti amministrativi
 - D** Formulare proposte ed esprimere pareri al Ministro, nelle materie di sua competenza

- 15 In base all'art. 36 del d.lgs. 165/2001, le Pubbliche Amministrazioni possono ricorrere alla somministrazione di lavoro?
- A** Sì, ma non per l'esercizio di funzioni direttive e dirigenziali
 - B** No, mai
 - C** Sì, per comprovate esigenze di carattere definitivo
 - D** Sì, per ogni ruolo

- 16 In base al Codice dei contratti pubblici (d.lgs. 36/2023), la progettazione in materia di lavori pubblici è volta ad assicurare tutte le seguenti opzioni, **TRANNE**:
- A** la corretta gestione del ciclo di vita del contratto pubblico
 - B** la conformità alle norme ambientali
 - C** il rispetto di quanto previsto dalla normativa in materia di tutela della sicurezza delle costruzioni
 - D** l'efficientamento energetico

- 17 In base al Codice dei contratti pubblici (d.lgs. 36/2023), per gli affidamenti dei contratti di appalto di lavori e servizi diversi da quelli aventi natura intellettuale, i bandi di gara, gli avvisi e gli inviti devono contenere specifiche clausole sociali con le quali sono richieste determinate misure. **NON** rientrano però tra queste ultime le misure orientate a garantire:
- A** la libertà di parola dei lavoratori, inclusi quelli in subappalto
 - B** le pari opportunità di genere
 - C** la stabilità occupazionale del personale impiegato
 - D** le stesse tutele economiche e normative per i lavoratori in subappalto rispetto ai dipendenti dell'appaltatore

- 18 In base all'art. 76 del Codice dei contratti pubblici (d.lgs. 36/2023), se, in esito all'esperimento di una procedura aperta, non è stata presentata alcuna offerta appropriata, le stazioni appaltanti possono ricorrere a:
- A** una procedura negoziata senza pubblicazione di un bando
 - B** una procedura ristretta
 - C** una procedura competitiva con negoziazione
 - D** un partenariato per l'innovazione

- 19 In base al Codice dei contratti pubblici (d.lgs. 36/2023), il sistema di monitoraggio delle prestazioni degli operatori istituito presso l'ANAC è fondato su accertamenti definitivi, che esprimono, tra l'altro:
- A** il rispetto della legalità
 - B** la solidità patrimoniale dell'impresa
 - C** il grado di innovazione dell'impresa
 - D** il grado della diversificazione delle attività dell'impresa

- 20 In base al Regolamento (UE) 2016/679 (GDPR), il contrassegno dei dati personali conservati con l'obiettivo di limitarne il trattamento in futuro è:
- A** una limitazione di trattamento
 - B** una profilazione
 - C** un archivio
 - D** il consenso dell'interessato

- 21 In base al d.lgs. 33/2013, la trasparenza dei dati e documenti detenuti dalle Pubbliche Amministrazioni concorre ad attuare il principio:
- A** democratico
 - B** rappresentativo
 - C** lavorista
 - D** del decentramento amministrativo

- 22 Ai sensi del d.lgs. 33/2013 e s.m.i., quale, tra i seguenti, NON è un interesse pubblico il cui pregiudizio può giustificare il diniego del diritto di accesso civico generalizzato a dati e documenti?
- A** La tecnologia industriale
 - B** La sicurezza pubblica e l'ordine pubblico
 - C** La sicurezza nazionale
 - D** Il regolare svolgimento di attività ispettive

- 23 Ai sensi dell'art. 1 della legge 190/2012, eventuali misure discriminatorie nei confronti del Responsabile della prevenzione della corruzione e della trasparenza, per motivi collegati allo svolgimento delle sue funzioni:
- A** devono sempre essere segnalate all'Autorità nazionale anticorruzione
 - B** devono essere segnalate all'Autorità nazionale anticorruzione se il collegamento è diretto e all'Autorità per la Privacy se il collegamento è indiretto
 - C** non possono essere segnalate all'Autorità nazionale anticorruzione, ma restano di competenza dell'autorità giudiziaria
 - D** devono essere segnalate all'organo di indirizzo se il collegamento è diretto e all'Autorità per la Privacy se il collegamento è indiretto

- 24 Gli studi intesi a rinnovare le politiche del personale negli Enti pubblici mettono in luce come l'approccio strategico alla gestione delle risorse umane debba produrre:
- A** un coerente processo di sviluppo e valorizzazione del personale
 - B** maggior attenzione alle esigenze di coordinamento di compiti, mansioni e operazioni, da risolvere in chiave prevalentemente "verticale"
 - C** una maggior standardizzazione delle strutture organizzative degli Enti pubblici
 - D** una riduzione dei costi legati al personale

25

La finalità dei sistemi di programmazione e controllo dell'attività dell'Ente pubblico è:

- A** orientare i comportamenti del management e dell'intera struttura organizzativa verso il perseguimento degli obiettivi, mediante il miglior impiego possibile delle risorse a disposizione
- B** realizzare risparmi di spesa e ottimizzazione delle risorse
- C** realizzare un approccio coerente alla progettazione e gestione dei sistemi di reclutamento, formazione e retribuzione del personale
- D** la valutazione dell'adeguatezza delle scelte compiute in sede di attuazione dei piani, dei programmi e di altri strumenti di determinazione dell'indirizzo politico, in termini di congruenza tra risultati conseguiti e obiettivi predefiniti

26

La gestione finanziaria degli Enti pubblici si è orientata sul cosiddetto Modello di finanza autonoma. Quale dei seguenti è un vantaggio che esso arreca?

- A** Possibilità di differenziazione della struttura delle entrate
- B** Possibilità di una visione unitaria delle politiche fiscali
- C** Maggior possibilità di applicare i principi della specializzazione e della professionalità alla funzione di raccolta tributi
- D** Maggior facilità di predisposizione di politiche di finanza pubblica

27

Nel mondo della Pubblica Amministrazione si è ormai affermato il concetto di marketing pubblico. Esso trova applicazione in determinati ambiti d'azione, ognuno dei quali ha specifici obiettivi di riferimento. Quale delle seguenti affermazioni a proposito degli ambiti di azione del marketing pubblico è ERRATA?

- A** Marketing territoriale: ha come obiettivo l'acquisizione e il mantenimento del consenso elettorale
- B** Marketing istituzionale: è finalizzato al rafforzamento dell'immagine dell'Ente e a indirizzare le aspettative della collettività
- C** Marketing dei servizi: riguarda la definizione delle caratteristiche dell'offerta, sviluppandola sulla base di un processo di analisi della domanda e dei bisogni
- D** Marketing sociale: ha l'obiettivo di influenzare il proprio target su un determinato comportamento, al fine di indurlo ad adottare o abbandonare una determinata condotta

28

La gestione finanziaria degli Enti pubblici comprende, tra l'altro, la "gestione caratteristica". Quale dei seguenti NON è un elemento di quest'ultima?

- A** Proventi da investimenti finanziari
- B** Tributi
- C** Prezzi per i servizi erogati
- D** Trasferimenti da altri Enti pubblici

29

Recentemente, si è diffuso nella Pubblica Amministrazione il concetto di "qualità totale" o Total Quality Management. Esso si fonda su alcuni principi fondamentali, ma uno dei seguenti NON rientra in essi. Quale?

- A** La riduzione dei poteri autoritativi dell'Ente
- B** Il cliente-utente è il riferimento principale per la determinazione della qualità dei servizi
- C** La qualità assume una concezione sistemica
- D** Il miglioramento continuo

- 30 "Il sistema di bilancio ricomprende tutte le finalità e gli obiettivi di gestione, nonché i relativi valori finanziari, economici e patrimoniali riconducibili alla singola Amministrazione Pubblica". In tale forma, l'Allegato 1 del d.lgs. 118/2001 esprime il principio:
- A dell'universalità
 - B dell'unità
 - C dell'integrità
 - D della congruità

- 31 Ai sensi dell'art. 18 del decreto legislativo 118/2011, le Amministrazioni Pubbliche tenute all'approvazione del bilancio consolidato devono approvarlo entro il:
- A 30 settembre dell'anno successivo
 - B 30 novembre dell'anno precedente
 - C 30 settembre dell'anno precedente
 - D 31 dicembre dell'anno successivo

- 32 In base al Manuale dei principi e delle regole di contabilità economica della Regione autonoma della Sardegna, ... ha come scopo la determinazione periodica del risultato economico e del patrimonio di funzionamento dell'ente nel suo complesso.
- A la contabilità economico-patrimoniale
 - B la contabilità finanziaria
 - C la contabilità economico-analitica
 - D la contabilità semplificata

- 33 In base al Manuale dei principi e delle regole di contabilità economica della Regione autonoma della Sardegna, quale dei seguenti è una componente dell'attivo dello stato patrimoniale?
- A L'attivo circolante
 - B Il patrimonio netto
 - C I fondi per rischi e oneri
 - D I ratei passivi

- 34 In base al Codice di comportamento del personale del sistema Regione e delle società partecipate della Sardegna, il personale può accettare regali effettuati occasionalmente nell'ambito delle normali relazioni di cortesia?
- A Sì, purché d'uso di modico valore
 - B Sì, purché il regalo sia per altri
 - C Sì, ma solo se autorizzato da un superiore
 - D No, non può in nessun caso

- 35 In base al Codice di comportamento del personale del sistema Regione e delle società partecipate della Sardegna, il personale che sia venuto a conoscenza, in ragione del rapporto di lavoro, di eventuali situazioni di condotte illecite nell'Amministrazione effettua una segnalazione:
- A scritta tramite l'apposita modulistica o una piattaforma informatica
 - B in qualsiasi forma, purché non anonima
 - C esclusivamente in via informatica, tramite un'apposita piattaforma informatica
 - D orale, a cui deve seguire una segnalazione tramite un'apposita piattaforma informatica

- 36 In base al Codice di comportamento del personale del sistema Regione e delle società partecipate della Sardegna, in caso di infortunio causante assenza, il personale lo comunica alla struttura di appartenenza:
- A** con la massima tempestività possibile in rapporto alle proprie condizioni psico-fisiche
 - B** entro tre giorni
 - C** solo se si dà luogo a ricovero ospedaliero
 - D** a propria discrezione

- 37 In base allo Statuto della Regione Sardegna (l. cost. 3/1948), costituiscono entrate della Regione ... del gettito delle imposte di registro.
- A** i nove decimi
 - B** i sette decimi
 - C** i cinque decimi
 - D** i dieci decimi

- 38 In base allo Statuto della Regione Sardegna (l. cost. 3/1948), il Consiglio regionale può essere sciolto per tutte le seguenti ragioni, TRANNE una. Quale?
- A** Quando la Corte costituzionale si pronuncia contro una legge regionale, a seguito della promozione della questione di legittimità ad opera del Governo
 - B** Quando il Consiglio compia atti contrari allo Statuto stesso
 - C** Quando, nonostante la segnalazione fatta dal Governo della Repubblica, il Consiglio non proceda alla sostituzione della Giunta regionale che abbia compiuto gravi violazioni di legge
 - D** In caso di impedimento permanente del Presidente della Regione, se eletto a suffragio universale e diretto

- 39 In base allo Statuto della Regione Sardegna (l. cost. 3/1948), i consiglieri regionali, prima di essere ammessi all'esercizio delle loro funzioni, prestano giuramento di essere fedeli alla Repubblica?
- A** Sì, prestano giuramento
 - B** No, il giuramento è di essere fedeli alla Regione Sardegna
 - C** Sì, ma possono essere esentati
 - D** No, non prestano nessun giuramento

- 40 In base alla legge 1/1977 e s.m.i. della Regione Sardegna, tutti i seguenti sono Assessorati, TRANNE:
- A** rapporti con l'Unione europea
 - B** industria
 - C** turismo, artigianato e commercio
 - D** pubblica istruzione, beni culturali, informazione, spettacolo e sport

- 41 "Non è incorretto non negare che non lo puoi scrivere". La precedente affermazione significa che:
- A** non lo puoi scrivere
 - B** non puoi non scrivere
 - C** lo puoi scrivere
 - D** è possibile che tu non lo scriva

42 "Se e solo se non prendo un permesso retribuito non arrivo in ritardo sulla scadenza del lavoro". Se la precedente affermazione è vera, allora è FALSO che:

- A** se prendo un permesso retribuito è possibile che non arrivi in ritardo sulla scadenza del lavoro
- B** se arrivo in ritardo sulla scadenza del lavoro è perché ho preso un permesso retribuito
- C** condizione necessaria e sufficiente affinché non arrivi in ritardo sulla scadenza del lavoro è che non prenda un permesso retribuito
- D** se prendo un permesso retribuito arrivo in ritardo sulla scadenza del lavoro

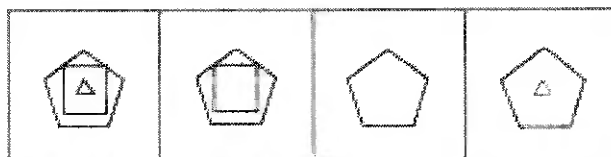
43 "Tutti i vigili del fuoco sono atletici; Piero è coraggioso; tutte le persone coraggiose sono atletiche". In base alle precedenti affermazioni, quale delle seguenti è necessariamente vera?

- A** Piero è atletico
- B** Piero è un vigile del fuoco
- C** Tutti i vigili del fuoco sono coraggiosi
- D** Non esistono vigili del fuoco coraggiosi

44 Quale, tra i termini proposti, completa correttamente la seguente proporzione verbale? Folle : X = acuto : ottuso

- A** X = assennato
- B** X = irragionevole
- C** X = pungente
- D** X = levigato

FIGURA SS 98



1

2


3

4

45 Rispondere al seguente quesito facendo riferimento alla FIGURA SS 98
Individuare la figura che completa la serie.

- A** Figura 3
- B** Figura 1
- C** Figura 2
- D** Figura 4

FIGURA SV 55





46 Rispondere al seguente quesito facendo riferimento alla FIGURA SV 55
Individuare la figura mancante.

B00046

- A** Figura 4
- B** Figura 2
- C** Figura 3
- D** Figura 1

FIGURA SN 66




47 Rispondere al seguente quesito facendo riferimento alla FIGURA SN 66
Quale delle figure corrisponde alla composizione volumetrica della figura piana?

B00047

- A** Figura 4
- B** Figura 1
- C** Figura 2
- D** Figura 3

FIGURA TZ 82



48


Rispondere al seguente quesito facendo riferimento alla FIGURA TZ 82

B00048

In quale dei quattro tasselli proposti sono contenute le lettere mancanti che permettono di formare parole di senso compiuto?

- A** Il tassello 3
- B** Il tassello 2
- C** Il tassello 1
- D** Il tassello 4

FIGURA SS 80



49

Rispondere al seguente quesito facendo riferimento alla FIGURA SS 80

B00049

Individuare la figura da scartare.

- A** Figura 2
- B** Figura 1
- C** Figura 3
- D** Figura 4

DIAGRAMMA RY 00

Individuare la relazione insiemistica esistente tra i termini dati.



DIAGRAMMA 1



DIAGRAMMA 2

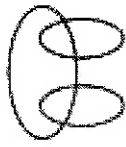


DIAGRAMMA 3



DIAGRAMMA 4




DIAGRAMMA 5

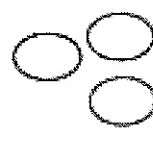


DIAGRAMMA 6

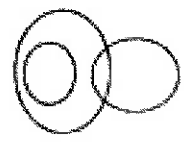


DIAGRAMMA 7

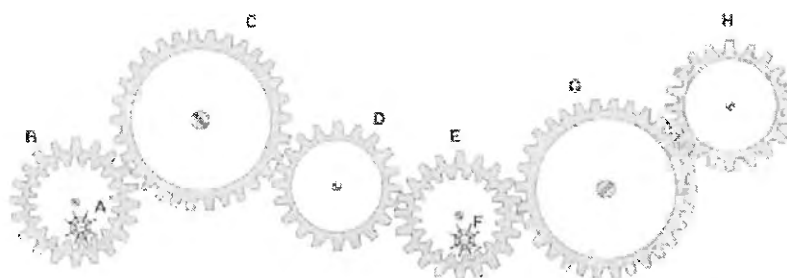
- 50 Rispondere al seguente quesito facendo riferimento al DIAGRAMMA RY 00 B00050
Calendari, Orologi da polso, Meridiane
A Diagramma 6
B Diagramma 4
C Diagramma 5
D Diagramma 1
-
- 51 Nel lancio di un dado a sei facce, numerate da 1 a 6, che probabilità c'è che esca un numero minore di 5? B00051
A $2/3$
B $5/6$
C $1/2$
D $1/3$
-
- 52 Un capitale di 500 milioni è depositato in banca ed è soggetto a un interesse annuo del 2%. A quanto ammonterà il capitale dopo un anno? B00052
A 510 milioni
B 502 milioni
C 520 milioni
D 1.000 milioni
-
- 53 Il peso lordo di un container è di 5.800 kg e la tara è pari al 7%. Il peso netto sarà quindi di kg: B00053
A 5.394
B 406
C 6.206
D 4.060

- 54 Arianna ed Enrico tinteggiano un muretto di 100 metri. Per tinteggiare un metro di muretto, Arianna impiega 30 minuti mentre Enrico procede a una velocità superiore del 50%. Quante ore di lavoro saranno necessarie a tinteggiare tutto il muretto?

A 20
B 22
C 5
D 1,5

FIGURA ST 86

Nel sistema raffigurato, le ruote dentate sono libere di ruotare attorno a un perno fisso.



- 55 Rispondere al seguente quesito facendo riferimento alla FIGURA ST 86 B00055

Se la ruota dentata H gira in senso antiorario, in quale senso gira la ruota dentata piccola F?

A In senso inverso rispetto alla ruota dentata D
B Nello stesso senso della ruota dentata D
C In senso orario
D Il sistema di ingranaggi non può funzionare

- 56 Se le lancette di un orologio segnano le 4.45 di lunedì, tra 47 ore e 30 minuti saranno: B00056

A le 4.15 di mercoledì
B le 0.15 di martedì
C le 16.15 di giovedì
D le 4.15 di lunedì

- 57 In un ipotetico linguaggio in codice, alla parola COORDINATO corrisponde il codice COFOOFORDIFINAFATOF0 e alla parola COMPUTO corrisponde il codice COFOMPUFUTOFO. Come si scriverà, nel medesimo codice, la parola DUE? B00057

A DUFUEFE
B DUEFUFE
C DUFUFEF
D DFUFEFE

- 58 Un gioco ha le seguenti regole: se un numero è divisibile per 3 vale 8 punti; se è divisibile per 7 vale 6 punti. In base a tali regole, quale dei seguenti numeri vale di più?

A 39
B 56
C 37
D 41

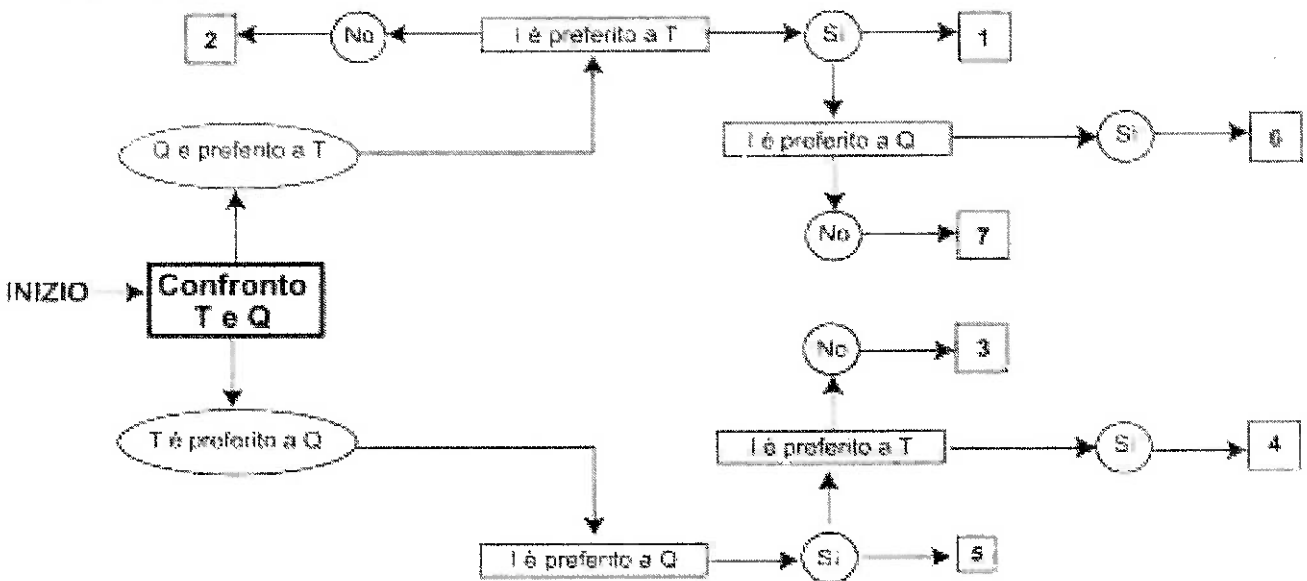
- 59 Completare correttamente la seguente successione, utilizzando l'alfabeto italiano: L; 33; N; 30; Q; 28; S; 25; ?; ?

A V; 23
B Z; 22
C V; 22
D U; 23

DIAGRAMMA SZ 14

Una società sottopone ai propri dipendenti un test per conoscere le loro abitudini. Una domanda verte su quale sia il canale seguito per conoscere le notizie. La classifica avviene valutando a due a due tre mezzi di comunicazione, giudicandone sempre uno come preferito all'altro e mai due come ugualmente preferiti. L'obiettivo quindi è stabilire un ordine di preferenza generale tra i dipendenti.

T = telegiornale, Q = quotidiano, I = Internet.



- 60 Rispondere al seguente quesito facendo riferimento al DIAGRAMMA SZ 14
 Indicare l'ordine di preferenze tra I, Q e T risultante alla casella "2" del diagramma.

A QTI
B È possibile più di un ordine
C Non è possibile stabilire alcun ordine
D IQT




REGIONE SARDEGNA

Concorso pubblico per titoli ed esami,
per il reclutamento a tempo pieno e indeterminato di n.
40 unità di personale dirigente da inquadrare presso
l'Amministrazione, gli enti, le agenzie, le aziende e gli istituti regionali
che costituiscono il sistema Regione.

PROVA 03

PROVA NON STRA



- 1 **In base all'art. 16 del TUE, il Consiglio:**
- A** esercita la funzione legislativa
 - B** dà all'Unione gli impulsi necessari al suo sviluppo
 - C** non ha funzioni di bilancio
 - D** delibera solo all'unanimità

- 2 **I cittadini europei eleggono direttamente i membri:**
- A** del Parlamento europeo
 - B** della Commissione europea
 - C** della Corte di giustizia europea
 - D** del Consiglio dell'Unione Europea

- 3 **Ai sensi dell'art. 288 del Trattato sul Funzionamento dell'UE, gli atti di diritto comunitario noti con il nome di "pareri":**
- A** non sono vincolanti
 - B** hanno lo stesso valore giuridico di una direttiva, poiché pongono un obiettivo da raggiungere
 - C** sono vincolanti se provengono dalla Commissione
 - D** sono vincolanti in tutti i casi elencati nel medesimo articolo

- 4 **In base all'articolo 17 del TUE, la Commissione europea ha il compito di:**
- A** vigilare sull'applicazione dei trattati
 - B** sorvegliare il funzionamento delle istituzioni comunitarie
 - C** supplire al Parlamento europeo in caso di inerzia
 - D** supervisionare le sentenze della Corte di Giustizia dell'Unione Europea

- 5 **Ai sensi dell'articolo 24, comma 3, della legge 241/1990, sono ammissibili eventuali istanze di accesso preordinate a un controllo generalizzato dell'operato delle Pubbliche Amministrazioni?**
- A** No, non sono ammissibili
 - B** Sono periodicamente accolte
 - C** Sono ammissibili solo se opportunamente motivate
 - D** Sono sempre accolte

- 6 **Ai sensi dell'articolo 11 della legge 241/1990, è ammessa la conclusione di accordi fra Pubblica Amministrazione e privati in vista dell'adozione di un provvedimento amministrativo. Il recesso unilaterale da essi è consentito:**
- A** da parte della Pubblica Amministrazione, salvo l'obbligo di provvedere alla liquidazione di un indennizzo, per sopravvenuti motivi di pubblico interesse
 - B** da parte della Pubblica Amministrazione per qualunque motivo, salvo l'obbligo di provvedere alla liquidazione di un indennizzo
 - C** da parte di entrambi i soggetti dell'accordo, per motivi di pubblico interesse
 - D** da parte della Pubblica Amministrazione per sopravvenuti motivi di pubblico interesse e senza obbligo di provvedere alla liquidazione di indennizzi

7 **Riguardo all'efficacia del provvedimento amministrativo, l'articolo 21-bis della legge 241/1990 dispone esplicitamente che:**

- A** il provvedimento limitativo della sfera giuridica dei privati avente carattere cautelare e urgente è immediatamente efficace
- B** il provvedimento limitativo della sfera giuridica dei privati acquista proficuità nei confronti di ciascun destinatario trascorsi dieci giorni dalla comunicazione allo stesso
- C** il provvedimento limitativo della sfera giuridica dei privati non avente carattere sanzionatorio deve sempre contenere una motivata clausola di immediata efficacia
- D** nei casi e con le modalità stabiliti dalla legge, le Pubbliche Amministrazioni possono imporre coattivamente l'adempimento degli obblighi nei loro confronti

8 **Secondo il d.P.R. 445/2000, l'esibizione di un atto contenente dati non più rispondenti a verità:**

- A** equivale a uso di atto falso
- B** non equivale a uso di atto falso
- C** equivale a uso di atto falso se i dati non corrispondono più a verità da oltre tre mesi
- D** equivale a uso di atto falso se i dati non corrispondono più a verità da oltre un anno

9 **Ai sensi del d.lgs. 82/2005, si intende per "originali non unici":**

- A** i documenti per i quali sia possibile risalire al loro contenuto attraverso altre scritture o i documenti di cui sia obbligatoria la conservazione, anche se in possesso di terzi
- B** i documenti per i quali sia possibile risalire al loro contenuto attraverso altre scritture o i documenti di cui sia facoltativa la conservazione, anche se in possesso di terzi
- C** i documenti per i quali sia possibile risalire al loro contenuto attraverso altre scritture, ma mai se in possesso di terzi
- D** i documenti informatici realizzati a partire da documenti di altro tipo e aventi contenuti corrispondenti a quelli di questi ultimi

10 **L'art. 97 della Costituzione italiana dispone che i pubblici uffici:**

- A** siano organizzati secondo disposizioni di legge, in modo che siano assicurati il buon andamento e l'imparzialità dell'Amministrazione
- B** siano organizzati secondo disposizioni di legge, in modo che siano assicurati l'efficacia e l'efficienza dell'Amministrazione
- C** siano organizzati secondo disposizioni del Ministro per la Pubblica Amministrazione, in modo che siano assicurati l'efficacia e l'efficienza dell'Amministrazione
- D** non siano sottoposti, quanto alla loro organizzazione, ad alcuna riserva di legge o di regolamento

11 **Ai sensi dell'art. 117 della Costituzione italiana, i regolamenti governativi possono disciplinare materie di competenza normativa delle Regioni?**

- A** No, in nessun caso
- B** Sì, senza alcun limite
- C** No, salvo espressa previsione della legge statale
- D** Sì, nei casi espressamente previsti dalla Costituzione italiana

12 **L'articolo 11 della Costituzione italiana consente limitazione della sovranità dello Stato?**

- A** Sì, ma solo in condizioni di parità con gli altri Stati
- B** Sì, ma solo per periodi di tempo limitati e previo assenso del Parlamento
- C** No, mai
- D** Sì, sempre e senza limiti

13 **In base all'articolo 56 della Costituzione italiana, la ripartizione dei seggi della Camera dei Deputati avviene:**

- A** tra le circoscrizioni
- B** tra le Regioni
- C** tra le Province
- D** tra i Comuni

14 **Quale dei seguenti compiti è attribuito dall'art. 16 del d.lgs. 165/2001 ai dirigenti degli uffici dirigenziali generali?**

- A** Promuovere e resistere alle liti
- B** Formulare pareri su richiesta del Consiglio di Stato
- C** Decidere sui ricorsi straordinari avverso i provvedimenti delle articolazioni periferiche dell'Amministrazione
- D** Sottoscrivere i ricorsi giurisdizionali contro gli atti della propria Amministrazione

15 **Ai sensi dell'art. 52 del d.lgs. 165/2001, l'esercizio di fatto di mansioni non corrispondenti alla qualifica di appartenenza:**

- A** non ha effetto ai fini dell'inquadramento del lavoratore o dell'assegnazione di incarichi di direzione
- B** ha effetto ai fini dell'inquadramento del lavoratore, ma non ai fini dell'assegnazione di incarichi di direzione
- C** espone il lavoratore a sanzioni disciplinari
- D** costituisce titolo indispensabile ai fini della progressione di carriera

16 **In base all'art. 41 del Codice dei contratti pubblici (d.lgs. 36/2023), la progettazione in materia di lavori pubblici è volta ad assicurare tutti i seguenti, TRANNE:**

- A** la corretta gestione del ciclo di vita del contratto pubblico
- B** la conformità alle norme urbanistiche
- C** la rispondenza ai requisiti di qualità architettonica e tecnico-funzionale
- D** la minimizzazione dell'impiego di risorse materiali non rinnovabili nell'intero ciclo di vita delle opere

17 **In base al Codice dei contratti pubblici (d.lgs. 36/2023), per gli affidamenti dei contratti di appalto di lavori e servizi diversi da quelli aventi natura intellettuale, i bandi di gara, gli avvisi e gli inviti devono contenere specifiche clausole sociali con le quali sono richieste determinate misure. NON rientrano però tra queste ultime le misure orientate a garantire:**

- A** la libertà di espressione dei lavoratori, inclusi quelli in subappalto
- B** le pari opportunità di inclusione lavorativa per le persone con disabilità
- C** la stabilità occupazionale del personale impiegato
- D** le stesse tutele economiche e normative per i lavoratori in subappalto rispetto ai dipendenti dell'appaltatore

- 18 In base all'art. 76 del Codice dei contratti pubblici (d.lgs. 36/2023), se, in esito all'esperimento di una procedura aperta, non è stata presentata alcuna domanda di partecipazione, le stazioni appaltanti possono ricorrere a:
- A** una procedura negoziata senza pubblicazione di un bando
 - B** una procedura ristretta
 - C** una procedura competitiva con negoziazione
 - D** un dialogo competitivo

- 19 In base al Codice dei contratti pubblici (d.lgs. 36/2023), il sistema di monitoraggio delle prestazioni degli operatori istituito presso l'ANAC è fondato su accertamenti definitivi, che esprimono, tra l'altro:
- A** il rispetto degli obiettivi di sostenibilità
 - B** la solidità patrimoniale dell'impresa
 - C** il grado di innovazione dell'impresa
 - D** il livello di internazionalizzazione dell'impresa

- 20 In base al Regolamento UE 2016/679 (GDPR), il titolare del trattamento e il responsabile del trattamento devono operare la pseudonimizzazione delle persone fisiche?
- A** Possono doverlo fare, in ragione del livello di sicurezza che devono garantire
 - B** Sì, devono, in ogni caso
 - C** No, è vietato
 - D** Solo nei confronti di minori

- 21 Quale dei seguenti scopi **NON** è menzionato dal d.lgs. 33/2013 come uno di quelli perseguiti dalla trasparenza dei dati e documenti detenuti dalle Pubbliche Amministrazioni?
- A** Velocizzare l'azione amministrativa
 - B** Tutelare i diritti dei cittadini
 - C** Promuovere la partecipazione degli interessati all'attività amministrativa
 - D** Favorire forme diffuse di controllo sul perseguimento delle funzioni istituzionali e sull'utilizzo delle risorse pubbliche

- 22 Ai sensi del d.lgs. 33/2013, evitare un pregiudizio concreto alla tutela della sicurezza nazionale:
- A** è motivo di diniego all'accesso civico
 - B** non è mai motivo di diniego all'accesso civico
 - C** può limitare ma non escludere l'accesso civico
 - D** è sempre motivo di differimento dell'accesso civico

- 23 In base all'art. 1, comma 8, della legge 190/2012, il Piano triennale per la prevenzione della corruzione viene adottato:
- A** dall'organo di indirizzo, su proposta del Responsabile della prevenzione della corruzione e della trasparenza entro il 31 gennaio di ogni anno, e ne cura la trasmissione all'Autorità nazionale anticorruzione
 - B** dal Responsabile della prevenzione della corruzione e della trasparenza, entro il 31 gennaio di ogni anno, su proposta dei singoli dirigenti competenti per le attività più esposte al rischio, che ne cura la trasmissione all'Autorità nazionale anticorruzione
 - C** dal Responsabile della prevenzione della corruzione e della trasparenza, entro il 31 marzo di ogni anno, su proposta dei singoli dirigenti competenti per le attività più esposte al rischio, che ne cura la trasmissione all'Autorità nazionale anticorruzione
 - D** nessuna delle altre alternative è corretta

- 24 Gli studi intesi a rinnovare le politiche del personale negli Enti pubblici mettono in luce come l'approccio strategico alla gestione delle risorse umane debba produrre:
- A** un efficace percorso di adattamento ai cambiamenti
 - B** il superamento della distinzione tra organi politici e organi operativi
 - C** la consapevolezza nel dipendente di avere a che fare con casi di lavoro e non con persone
 - D** una riduzione dei costi legati al personale

- 25 All'interno del processo di progettazione e controllo dell'attività degli Enti pubblici, la fase che segmenta piani e progetti generali in funzione degli specifici centri di responsabilità è quella di:
- A** budgeting
 - B** programmazione
 - C** misurazione dei risultati
 - D** reporting

- 26 La gestione finanziaria degli Enti pubblici si è orientata sul cosiddetto Modello di finanza autonoma. Quale dei seguenti è un vantaggio che esso arreca?
- A** Stretto legame tra le scelte di politica fiscale e le scelte operative da parte degli organi tecnici
 - B** Possibilità di una visione unitaria delle politiche fiscali
 - C** Minor numero di tributi
 - D** Maggior possibilità di applicare i principi della specializzazione e della professionalità alla funzione di raccolta tributi

- 27 Nel mondo della Pubblica Amministrazione si è ormai affermato il concetto di marketing pubblico. Esso trova applicazione in determinati ambiti d'azione, ognuno dei quali ha specifici obiettivi di riferimento. Quale delle seguenti affermazioni a proposito degli ambiti di azione del marketing pubblico è ERRATA?
- A** Marketing istituzionale: ha come obiettivo l'acquisizione e il mantenimento del consenso elettorale
 - B** Marketing territoriale: ha l'obiettivo di creare valore per il territorio favorendone lo sviluppo e aumentandone l'attrattività turistica o economica
 - C** Marketing dei servizi: riguarda la definizione delle caratteristiche dell'offerta, sviluppandola sulla base di un processo di analisi della domanda e dei bisogni
 - D** Marketing sociale: ha l'obiettivo di influenzare il proprio target su un determinato comportamento, al fine di indurlo ad adottare o abbandonare una determinata condotta

- 28 La gestione finanziaria degli Enti pubblici comprende, tra l'altro, la "gestione caratteristica". Quale dei seguenti NON è un elemento di quest'ultima?
- A Smobilizzo del patrimonio
 - B Tributi
 - C Prezzi per i servizi erogati
 - D Trasferimenti da altri Enti pubblici

- 29 Recentemente, si è diffuso nella Pubblica Amministrazione il concetto di "qualità totale" o Total Quality Management. Esso si fonda su alcuni principi fondamentali, ma uno dei seguenti NON rientra in essi. Quale?
- A Il prezzo pagato dall'utente deve essere correlato al servizio ricevuto
 - B L'organizzazione deve convergere verso la soddisfazione dei bisogni dell'utente
 - C La qualità assume una concezione sistemica
 - D Il miglioramento continuo

- 30 Assicurare un nesso logico e conseguente fra la programmazione, la previsione, gli atti di gestione e la rendicontazione generale è, in base all'Allegato 1 del d.lgs. 118/2011, il fine del principio della:
- A coerenza
 - B congruità
 - C continuità
 - D competenza economica

- 31 Ai sensi dell'art. 56 del d.lgs. 118/2011, gli impegni di spesa possono essere assunti oltre il limite dei rispettivi stanziamenti di competenza del bilancio di previsione?
- A No, devono essere assunti entro tale limite
 - B Sì, è possibile
 - C Sì, previa autorizzazione della Ragioneria Generale dello Stato
 - D Dipende dal mese di approvazione del bilancio di previsione

- 32 In base al Manuale dei principi e delle regole di contabilità economica della Regione autonoma della Sardegna, ... è un sistema contabile che funge da strumento di programmazione, autorizzazione, rendiconto, controllo e informazione dei movimenti finanziari.
- A la contabilità finanziaria
 - B la contabilità economico-patrimoniale
 - C la contabilità economico-analitica
 - D la contabilità semplificata

- 33 In base al Manuale dei principi e delle regole di contabilità economica della Regione autonoma della Sardegna, quale dei seguenti è una componente dell'attivo dello stato patrimoniale?
- A I ratei attivi
 - B Il patrimonio netto
 - C I debiti
 - D I fondi per rischi e oneri

- 34 In base al Codice di comportamento del personale del sistema Regione e delle società partecipate della Sardegna, il personale può accettare regali da un proprio subordinato?
- A** Solo quelli d'uso di modico valore
 - B** Sì, purché il regalo sia per altri
 - C** Sì, ma solo in particolari situazioni (ad esempio: Natale, compleanno, ecc.)
 - D** No, mai

- 35 In base al Codice di comportamento del personale del sistema Regione e delle società partecipate della Sardegna, il personale, se risulta destinatario di atti, relativi a condotte rilevanti sul piano penale, per i quali la normativa preveda l'applicazione di provvedimenti di natura cautelare o disciplinare:
- A** deve comunicarlo in via riservata all'Amministrazione
 - B** deve comunicarlo in via riservata al Responsabile della prevenzione della corruzione
 - C** deve comunicarlo alla magistratura
 - D** non deve divulgare la notizia

- 36 In base al Codice di comportamento del personale del sistema Regione e delle società partecipate della Sardegna, durante l'assenza dal servizio per infermità il personale:
- A** non svolge attività che ritardino il recupero psicofisico
 - B** non svolge alcuna attività
 - C** svolge attività formative e di aggiornamento
 - D** svolge attività solidaristiche

- 37 In base allo Statuto della Regione Sardegna (l. cost. 3/1948), costituiscono entrate della Regione ... del gettito delle imposte ipotecarie.
- A** i nove decimi
 - B** i sette decimi
 - C** i cinque decimi
 - D** i dieci decimi

- 38 In base allo Statuto della Regione Sardegna (l. cost. 3/1948), il Consiglio regionale può essere sciolto per tutte le seguenti ragioni, TRANNE una. Quale?
- A** In caso di crisi di Governo
 - B** Quando il Consiglio compia gravi violazioni di legge
 - C** In caso di dimissioni del Presidente della Regione, se eletto a suffragio universale e diretto
 - D** Per ragioni di sicurezza nazionale

- 39 In base allo Statuto della Regione Sardegna (l. cost. 3/1948), le funzioni legislative e regolamentari attribuite alla Regione sono esercitate:
- A** dal Consiglio regionale
 - B** dalla Giunta regionale
 - C** rispettivamente dal Consiglio regionale e dalla Giunta regionale
 - D** rispettivamente dalla Giunta regionale e dal Consiglio regionale

40 In base alla legge 1/1977 della Regione Sardegna, tutti i seguenti sono Assessorati, TRANNE:

- A** immigrazione ed emigrazione
- B** Enti locali, finanze ed urbanistica
- C** lavori pubblici
- D** igiene e sanità e assistenza sociale

41 "Non è errato non negare la non-esistenza del Destino". Quale tra le seguenti proposizioni ha significato equivalente alla precedente?

- A** Risulta corretto negare l'esistenza del Destino
- B** Il Destino esiste
- C** Risulta corretto affermare l'esistenza del Destino
- D** Risulta errato negare l'esistenza del Destino

42 "Giovanni arriverà in orario al lavoro se e solo se Carlo gli presterà la bicicletta". In base alla precedente affermazione, quale delle seguenti NON è necessariamente vera?

- A** Giovanni può arrivare in orario anche se Carlo non gli presterà la bicicletta
- B** Se Giovanni è arrivato in ritardo, significa che Carlo non gli ha prestato la bicicletta
- C** Giovanni arriverà sicuramente in orario solo se Carlo gli presterà la bicicletta
- D** Giovanni arriverà sicuramente in ritardo se Carlo non gli presterà la bicicletta

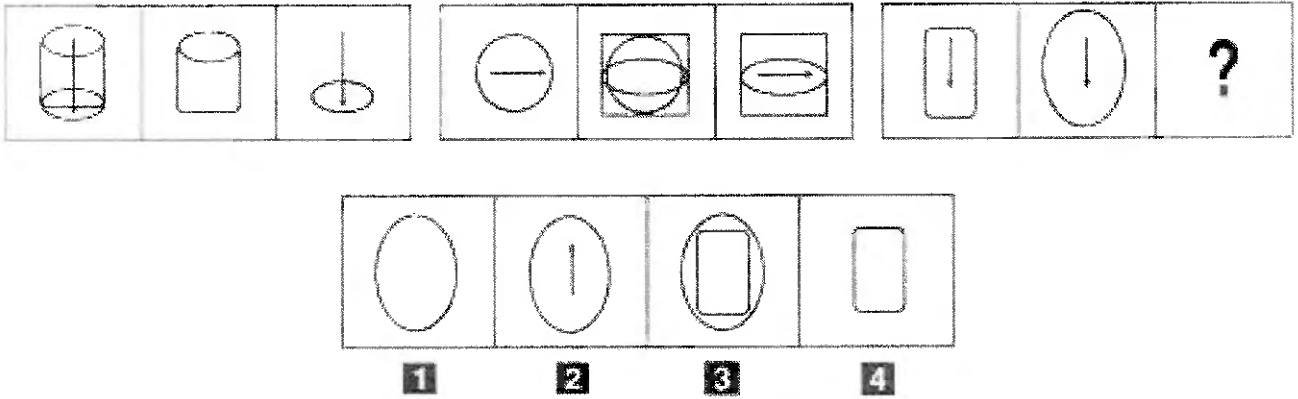
43 "Chi legge libri o ascolta musica classica ama l'arte. Chi ama l'arte ama la natura". Se le precedenti affermazioni sono vere, allora è vero che:

- A** chi legge libri ama la natura
- B** chi ama l'arte ascolta musica classica
- C** chi ama la natura ama l'arte
- D** chi ama la natura legge libri

44 Quale, tra i termini proposti, completa correttamente la seguente proporzione verbale? Verosimile : X = dissoluto : morigerato

- A** X = incredibile
- B** X = scatenato
- C** X = stocastico
- D** X = propiziatorio

FIGURA SU 59



45


Rispondere al seguente quesito facendo riferimento alla FIGURA SU 59

C00045

Individuare la figura mancante.

- A** Figura 3
- B** Figura 2
- C** Figura 1
- D** Figura 4

FIGURA SR 26



46

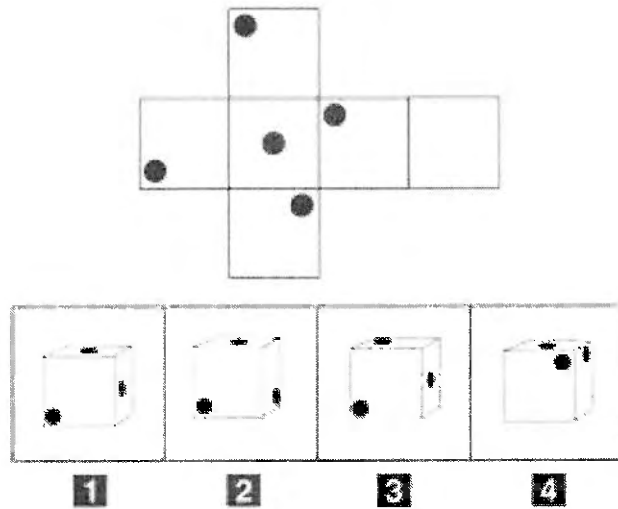
Rispondere al seguente quesito facendo riferimento alla FIGURA SR 26

C00046

Completare correttamente la serie di figure.

- A** Figura 2
- B** Figura 3
- C** Figura 1
- D** Figura 4

FIGURA SV 49



- 47 Rispondere al seguente quesito facendo riferimento alla FIGURA SV 49 C00047
 Quale delle figure proposte corrisponde alla composizione volumetrica della figura piana data?
A Figura 4
B Figura 1
C Figura 2
D Figura 3

FIGURA TZ 86

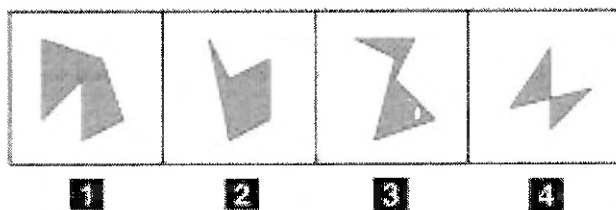
	A	G	G	I	O
M		T	I	T	A
C	O		O	N	A

M	S	R	F
E	A	U	I
T	R	S	V

1
2
3
4

- 48 Rispondere al seguente quesito facendo riferimento alla FIGURA TZ 86 C00048
 In quale dei quattro tasselli proposti sono contenute le lettere mancanti che permettono di formare parole di senso compiuto?
A Il tassello 2
B Il tassello 1
C Il tassello 4
D Il tassello 3

FIGURA SR 09



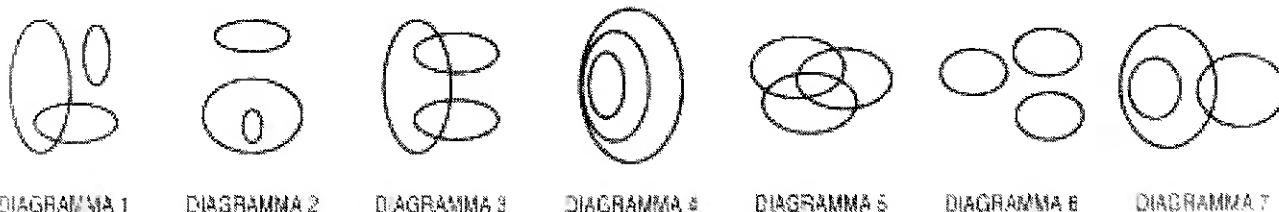
49 Rispondere al seguente quesito facendo riferimento alla FIGURA SR 09
Individuare la figura da scartare.

C00049

- A** Figura 2
- B** Figura 4
- C** Figura 3
- D** Figura 1

DIAGRAMMA RY 00

Individuare la relazione insiemistica esistente tra i termini dati.



50 Rispondere al seguente quesito facendo riferimento al DIAGRAMMA RY 00
Bevande, Vini, Proseccchi

C00050

- A** Diagramma 4
- B** Diagramma 3
- C** Diagramma 5
- D** Diagramma 2

51 Da un'urna contenente 15 palline numerate da 1 a 15, viene estratta, a occhi bendati, una pallina. Supponendo che tutte le palline abbiano le stesse probabilità di essere estratte, qual è la probabilità che esca un numero dispari?

C00051

- A** 8/15
- B** 7/15
- C** 1/4
- D** 1/3

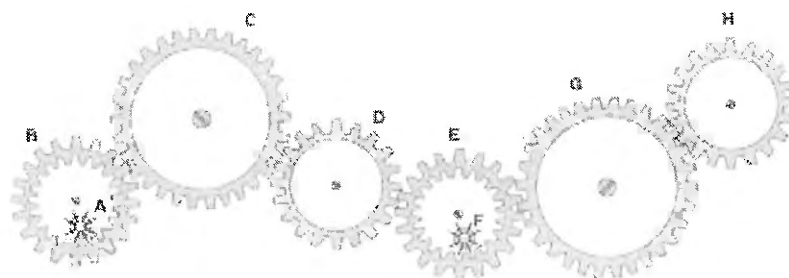
- 52 Un capitale di 300 milioni è depositato in banca ed è soggetto a un interesse annuo del 4%. A quanto ammonterà il capitale dopo un anno?
- A** 312 milioni
 - B** 304 milioni
 - C** 340 milioni
 - D** 1.200 milioni

- 53 Il peso lordo di un container è di 5.600 kg e la tara è pari all'8%; il peso netto sarà quindi di kg:
- A** 5.152
 - B** 4.480
 - C** 448
 - D** 6.048

- 54 Beatrice e Roberto tinteggiano un muretto di 200 metri. Per tinteggiare un metro di muretto, Beatrice impiega 30 minuti mentre Roberto procede a una velocità superiore del 50%. Quante ore di lavoro saranno necessarie a tinteggiare tutto il muretto?
- A** 40
 - B** 42
 - C** 5
 - D** 1,5

FIGURA ST 86

Nel sistema raffigurato, le ruote dentate sono libere di ruotare attorno a un perno fisso.



- 55 Rispondere al seguente quesito facendo riferimento alla FIGURA ST 86
- Se la ruota dentata G gira in senso orario, in quale senso gira la ruota dentata E?
- A** In senso inverso rispetto alla ruota dentata B
 - B** Nello stesso senso della ruota A
 - C** Nello stesso senso della ruota dentata B
 - D** In senso orario

56 Se le lancette di un orologio segnano le 17.30 di giovedì, tra 40 ore e 45 minuti saranno:

- A** le 10.15 di sabato
- B** le 6.15 di martedì
- C** le 22.15 di domenica
- D** le 10.15 di lunedì

57 In un ipotetico linguaggio in codice, al codice DISIRISITTOSO corrisponde la parola DIRITTO e al codice ASASSISICUSURASATOSO corrisponde la parola ASSICURATO. Quale sarà la parola corrispondente al codice PROSOMOSSOSO?

- A** PROMOSSO
- B** PROSSIMO
- C** SASSOSO
- D** PROMO

58 Un gioco ha le seguenti regole: se un numero è divisibile per 3 vale 6 punti; se è divisibile per 6 vale 9 punti; se è divisibile per 9 vale 7 punti. In base a tali regole, quanto vale il numero 42?

- A** 15 punti
- B** 13 punti
- C** 14 punti
- D** 12 punti

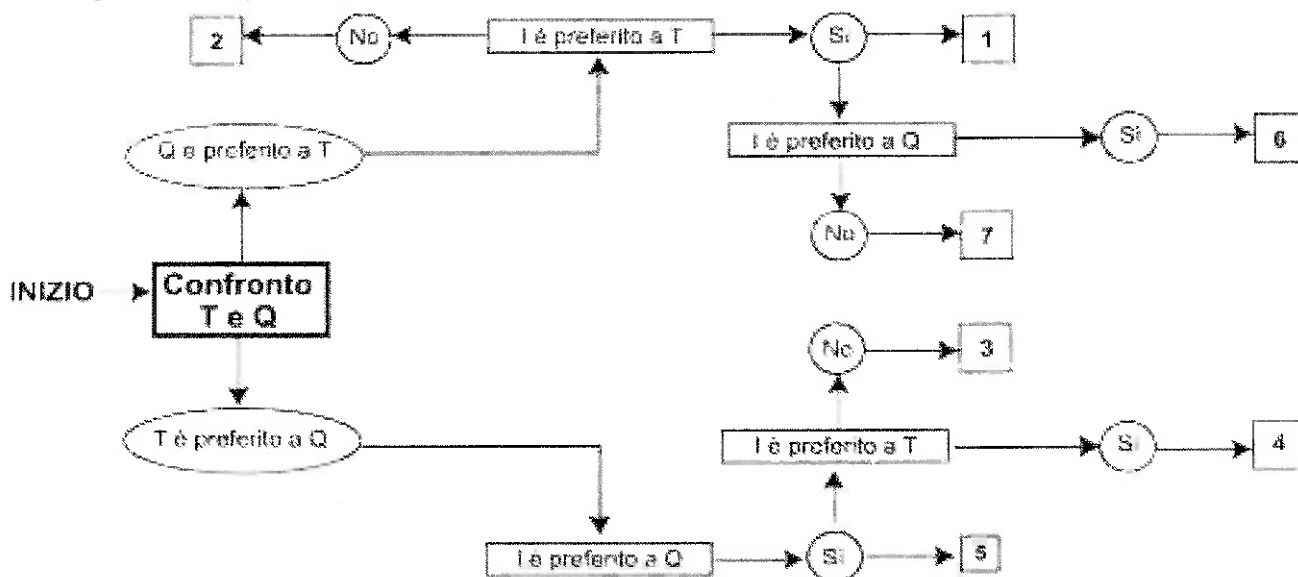
59 Utilizzando l'alfabeto italiano per la parte letterale, completare la seguente successione alfanumerica: Q; 15; B; 16; L; 31; T; 47; ?; ?

- A** E; 78
- B** B; 56
- C** C; 59
- D** E; 43

DIAGRAMMA SZ 14

Una società sottopone ai propri dipendenti un test per conoscere le loro abitudini. Una domanda verte su quale sia il canale seguito per conoscere le notizie. La classifica avviene valutando a due a due tre mezzi di comunicazione, giudicandone sempre uno come preferito all'altro e mai due come ugualmente preferiti. L'obiettivo quindi è stabilire un ordine di preferenza generale tra i dipendenti.

T = telegiornale, Q = quotidiano, I = Internet.



60 Rispondere al seguente quesito facendo riferimento al DIAGRAMMA SZ 14
Indicare l'ordine di preferenza risultante alla casella "3" del diagramma.

C00060

- A** TIQ
- B** IQT
- C** È possibile più di un ordine
- D** Non è possibile stabilire alcun ordine




REGIONE SARDEGNA

Concorso pubblico per titoli ed esami,
per il reclutamento a tempo pieno e indeterminato di n.
40 unità di personale dirigente da inquadrare presso
l'Amministrazione, gli enti, le agenzie, le aziende e gli istituti regionali
che costituiscono il sistema Regione.

PROVA 04

Prove estratte n. 4



- 1 **Ai sensi dell'art. 15 del TUE, il Consiglio europeo:**
- A** definisce gli orientamenti e le priorità politiche generali dell'Unione
 - B** esercita funzioni legislative
 - C** elegge il Presidente all'unanimità
 - D** adotta gli atti normativi

- 2 **Le procedure per le elezioni del Parlamento europeo:**
- A** sono in parte regolate da norme europee e in parte rimesse alle legislazioni nazionali
 - B** sono regolate da norme europee solo limitatamente al numero degli eletti e sono per il resto rimesse alle legislazioni nazionali
 - C** sono interamente regolate da norme europee
 - D** sono interamente regolate da norme europee, salvo specifiche deroghe che possono essere concesse dal Consiglio dell'Unione Europea

- 3 **In linea di principio, le direttive comunitarie sono:**
- A** atti normativi che non entrano a far parte dell'ordinamento giuridico degli Stati membri ma vincolano i Paesi a cui sono dirette al raggiungimento di un determinato risultato
 - B** atti normativi che hanno diretta e immediata efficacia nei confronti dei cittadini degli Stati membri a cui sono dirette ma, nel caso di conflitto con leggi statali, cedono il passo a queste ultime
 - C** atti normativi che hanno diretta e immediata efficacia nei confronti dei cittadini degli Stati membri a cui sono dirette e, nel caso di conflitto con leggi statali, prevalgono sulle stesse
 - D** decisioni adottate dalla Corte di giustizia europea per dirimere le controversie tra cittadini dell'Unione Europea

- 4 **L'articolo 17 del Trattato sull'Unione Europea (TUE) prevede che i membri della Commissione europea:**
- A** siano in numero pari ai due terzi del numero degli Stati membri, salvo diversa delibera del Consiglio europeo
 - B** siano 28
 - C** siano in numero pari a quello del numero degli Stati membri più uno
 - D** siano determinati di volta in volta, nel numero, dal Consiglio dell'Unione Europea

- 5 **Secondo l'art. 24 della legge 241/1990, il diritto di accesso ai documenti amministrativi è escluso:**
- A** nei procedimenti tributari
 - B** nei procedimenti anagrafici di attribuzione della residenza
 - C** quando la conferenza dei servizi, indetta dall'Amministrazione procedente, abbia constatato che l'interesse pubblico perseguito dal provvedimento amministrativo finale sia preminente rispetto agli interessi privati eventualmente coinvolti
 - D** mai, in nessun caso

D00006

6 **Ai sensi della legge 241/1990, Pubblica Amministrazione e privati possono concludere accordi integrativi o sostitutivi del provvedimento?**

- A** Sì e, a tal fine, il responsabile del procedimento può predisporre un calendario di incontri cui invita il destinatario del provvedimento ed eventuali controinteressati
- B** Sì e, a tal fine, l'interessato può predisporre un calendario di incontri cui invita il responsabile del procedimento ed eventuali controinteressati
- C** Sì e, a tal fine, il destinatario del provvedimento può predisporre un calendario di incontri cui invita il responsabile del provvedimento ma non i controinteressati
- D** Sì e, a tal fine, i controinteressati possono predisporre un calendario di incontri a cui invitare il responsabile del provvedimento ma non il destinatario del provvedimento

D00007

7 **In base alla legge 241/1990, in quale dei seguenti casi il provvedimento amministrativo è nullo?**

- A** Quando è stato adottato in violazione o elusione del giudicato
- B** Quando è viziato da eccesso di potere
- C** Quando è stato adottato in violazione di norme sul procedimento anche se, per la sua natura vincolata, il suo contenuto dispositivo non avrebbe potuto essere diverso da quello in concreto adottato
- D** Quando è viziato da incompetenza

D00008

8 **Secondo l'articolo 72 del d.P.R. 445/2000, la mancata risposta entro trenta giorni alla richiesta di controllo di una dichiarazione sostitutiva di certificazione:**

- A** è una violazione dei doveri d'ufficio
- B** non può configurarsi quale violazione dei doveri d'ufficio
- C** è un difetto di attribuzione
- D** è una violazione dei doveri d'ufficio, ma solo su istanza dell'Amministrazione procedente

D00009

9 **Ai sensi del d.lgs. 82/2005, si intende per "formato aperto":**

- A** un formato di dati reso pubblico, documentato esaustivamente e neutro rispetto agli strumenti tecnologici necessari per la fruizione dei dati stessi
- B** un formato di dati reso privato, documentato esaustivamente, i cui dati sono fruibili in modalità informatica o cartacea
- C** un formato di dati reso pubblico, documentato esaustivamente, contenuto esclusivamente in un documento analogico
- D** un formato di dati reso privato accessibile attraverso le tecnologie dell'informazione e della comunicazione

D00010

10 **In base al dettato costituzionale, i pubblici impiegati, se sono membri del Parlamento italiano:**

- A** non possono conseguire promozioni se non per anzianità
- B** non possono conseguire promozioni in nessun caso
- C** possono conseguire promozioni solo per meriti di servizio
- D** non possono conseguire promozioni per anzianità

D00011

11 **Secondo il Titolo V della Costituzione italiana, le Regioni hanno potestà regolamentare:**

- A** in ogni materia che non rientri nella legislazione esclusiva dello Stato, salvo delega
- B** in ogni materia
- C** esclusivamente nelle materie in relazione alle quali è conferita delega dallo Stato
- D** esclusivamente nelle materie relative all'ordinamento e all'organizzazione amministrativa dello Stato

12

Lo Stato italiano:

- A** è caratterizzato dal decentramento amministrativo e dal riconoscimento delle autonomie locali
- B** è federale in quanto riconosce la potestà legislativa delle Regioni
- C** è accentrato in quanto assomma tutti i poteri amministrativi
- D** è assolutista in quanto ricomprende tutti gli italiani

13

Come sono eletti i deputati?

- A** A suffragio universale e diretto
- B** A suffragio universale e indiretto
- C** Con referendum popolare
- D** A suffragio universale e diretto dai cittadini che hanno superato il venticinquesimo anno di età

14

A norma dell'art. 16 del d.lgs. 165/2001, i dirigenti degli uffici dirigenziali generali della P.A. NON hanno il compito di:

- A** formulare pareri su richiesta del Consiglio di Stato
- B** promuovere e resistere alle liti
- C** curare l'attuazione dei piani, programmi e direttive generali definite dal Ministro
- D** gestire i rapporti sindacali e di lavoro

15

Ai sensi dell'art. 52, comma 4, del d.lgs. 165/2001, il prestatore di lavoro pubblico che sia adibito a mansioni proprie della qualifica immediatamente superiore:

- A** ha diritto al trattamento previsto per la qualifica superiore, per il periodo di effettiva prestazione
- B** ha diritto a un'indennità stabilita dai contratti collettivi nazionali di lavoro, per il periodo di effettiva prestazione
- C** conserva in ogni caso il proprio trattamento economico e normativo
- D** ha diritto al trattamento previsto per la qualifica superiore per un termine massimo di novanta giorni

16

In base al Codice dei contratti pubblici (d.lgs. 36/2023), la progettazione in materia di lavori pubblici è volta ad assicurare tutti i seguenti, TRANNE:

- A** la corretta gestione del ciclo di vita del contratto pubblico
- B** la conformità alle norme di tutela dei beni culturali e paesaggistici
- C** il rispetto dei tempi e dei costi previsti
- D** il rispetto dei principi della sostenibilità economica, territoriale, ambientale e sociale dell'intervento

17

In base al Codice dei contratti pubblici (d.lgs. 36/2023), per gli affidamenti dei contratti di appalto di lavori e servizi diversi da quelli aventi natura intellettuale, i bandi di gara, gli avvisi e gli inviti devono contenere specifiche clausole sociali con le quali sono richieste determinate misure. NON rientrano, però, tra queste ultime le misure:

- A** orientate a garantire la libertà di associazione dei lavoratori, inclusi quelli in subappalto
- B** orientate a garantire le pari opportunità di inclusione lavorativa per le persone svantaggiate
- C** orientate a garantire la stabilità occupazionale del personale impiegato
- D** contro il lavoro irregolare

- 18 In base all'art. 76 del Codice dei contratti pubblici (d.lgs. 36/2023), se, in esito all'esperimento di una procedura aperta, non è stata presentata alcuna domanda di partecipazione appropriata, le stazioni appaltanti possono ricorrere a:
- A** una procedura negoziata senza pubblicazione di un bando
 - B** una procedura ristretta
 - C** una procedura competitiva con negoziazione
 - D** un partenariato per l'innovazione

- 19 In base al Codice dei contratti pubblici (d.lgs. 36/2023), il sistema di monitoraggio delle prestazioni degli operatori istituito presso l'ANAC è fondato su accertamenti definitivi, che esprimono, tra l'altro:
- A** il rispetto degli obiettivi di responsabilità sociale
 - B** la solidità patrimoniale dell'impresa
 - C** il grado di innovazione dell'impresa
 - D** l'originalità dei lavori, delle forniture o dei servizi proposti dall'impresa

- 20 A norma del Regolamento UE 2016/679 (GDPR), se l'interessato revoca il consenso al trattamento dei dati personali, il trattamento effettuato prima della revoca:
- A** resta lecito
 - B** diviene illecito
 - C** dà comunque diritto a un indennizzo all'interessato
 - D** non è illecito, ma il titolare è tenuto a minimizzarne gli effetti

- 21 Tutti i documenti, le informazioni e i dati oggetto di accesso civico, ivi compresi quelli oggetto di pubblicazione obbligatoria ai sensi della normativa vigente:
- A** sono pubblici
 - B** sono a disposizione dei cittadini, a fronte di motivata richiesta
 - C** non sono fruibili gratuitamente
 - D** nessuna delle altre alternative è corretta

- 22 Ai sensi del d.lgs. 33/2013, quale, tra i seguenti, NON è un interesse pubblico il cui pregiudizio può giustificare il diniego del diritto di accesso?
- A** Il regolare svolgimento di attività sportive
 - B** La sicurezza pubblica e l'ordine pubblico
 - C** Le relazioni internazionali
 - D** La politica e la stabilità finanziaria ed economica dello Stato

- 23 Ai sensi dell'art. 1, comma 8, della legge 190/2012, l'elaborazione del Piano triennale di prevenzione della corruzione:
- A** non può essere affidata a soggetti estranei all'Amministrazione
 - B** può essere affidata a soggetti estranei all'Amministrazione
 - C** deve essere affidata a soggetti estranei all'Amministrazione
 - D** deve avvenire entro il 30 giugno di ciascun anno

- 24 **Gli studi intesi a rinnovare le politiche del personale negli Enti pubblici mettono in luce come l'approccio strategico alla gestione delle risorse umane debba produrre:**
- A** un incentivante e stimolante sistema di valutazione delle performance organizzative
 - B** la scomposizione del lavoro in attività semplici e specializzate
 - C** lo sviluppo di un senso di fedeltà personale dei dipendenti all'Ente
 - D** una riduzione dei costi legati al personale

- 25 **All'interno del processo di progettazione e controllo dell'attività degli Enti pubblici, la fase di raccolta, analisi e presentazione delle informazioni contabili attraverso sintesi informative finalizzate a esplicitare l'esistenza di scostamenti tra obiettivi e risultati effettivi è quella di:**
- A** reporting
 - B** budgeting
 - C** programmazione
 - D** misurazione dei risultati

- 26 **La gestione finanziaria degli Enti pubblici si è orientata sul cosiddetto Modello di finanza autonoma. Quale dei seguenti è un vantaggio che esso arreca?**
- A** Maggiori effetti sulla responsabilizzazione economica delle Amministrazioni Pubbliche
 - B** Migliore redistribuzione interregionale delle risorse
 - C** Possibilità di una visione unitaria delle politiche fiscali
 - D** Maggior facilità di predisposizione di politiche di finanza pubblica

- 27 **Nel mondo della Pubblica Amministrazione si è ormai affermato il concetto di marketing pubblico. Esso trova applicazione in determinati ambiti d'azione, ognuno dei quali ha specifici obiettivi di riferimento. Quale delle seguenti affermazioni a proposito degli ambiti di azione del marketing pubblico è ERRATA?**
- A** Marketing sociale: ha come obiettivo l'acquisizione e il mantenimento del consenso elettorale
 - B** Marketing territoriale: ha l'obiettivo di creare valore per il territorio favorendone lo sviluppo e aumentandone l'attrattività turistica o economica
 - C** Marketing dei servizi: riguarda la definizione delle caratteristiche dell'offerta, sviluppandola sulla base di un processo di analisi della domanda e dei bisogni
 - D** Marketing istituzionale: finalizzato al rafforzamento dell'immagine dell'Ente e a indirizzare le aspettative della collettività

- 28 **La gestione finanziaria degli Enti pubblici comprende, tra l'altro, la "gestione caratteristica". Quale dei seguenti NON è un elemento di quest'ultima?**
- A** Ricorso al prestito
 - B** Tributi
 - C** Prezzi per i servizi erogati
 - D** Trasferimenti da altri Enti pubblici

D00029

- 29 Recentemente, si è diffuso nella Pubblica Amministrazione il concetto di "qualità totale" o Total Quality Management. Esso si fonda su alcuni principi fondamentali, ma uno dei seguenti NON rientra in essi. Quale?
- A Gli interessi dell'utente vanno temperati con quelli dell'Ente
 - B L'organizzazione deve convergere verso la soddisfazione dei bisogni dell'utente
 - C La qualità assume una concezione sistemica
 - D La qualità va progettata sin dall'origine

D00030

- 30 In base al d.lgs. 118/2011, Allegato 1, il sistema di bilancio ricomprende tutte le finalità e gli obiettivi di gestione, nonché i relativi valori finanziari, economici e patrimoniali riconducibili alla singola Amministrazione Pubblica. Ciò concretizza il principio di:
- A universalità
 - B unità
 - C annualità
 - D integrità

D00031

- 31 Ai sensi dell'art. 56 del decreto legislativo 118/2011, quale atto costituisce la fase della spesa con la quale viene riconosciuto il perfezionamento di un'obbligazione giuridica passiva?
- A L'impegno
 - B La liquidazione
 - C La ricognizione
 - D L'obbligazione

D00032

- 32 In base al Manuale dei principi e delle regole di contabilità economica della Regione autonoma della Sardegna, ... si fonda sul principio della competenza economica.
- A la contabilità economico-patrimoniale
 - B la contabilità finanziaria
 - C la contabilità economico-analitica
 - D la contabilità semplificata

D00033

- 33 In base al Manuale dei principi e delle regole di contabilità economica della Regione autonoma della Sardegna, quale dei seguenti è una componente dell'attivo dello stato patrimoniale?
- A I risconti attivi
 - B Il patrimonio netto
 - C I debiti
 - D I fondi per rischi e oneri

D00034

- 34 In base al Codice di comportamento del personale del sistema Regione e delle società partecipate della Sardegna, il personale può offrire regali al proprio sovraordinato?
- A Solo quelli d'uso di modico valore
 - B Sì, purché il regalo sia per altri
 - C Sì, ma solo se sussiste un rapporto di correttezza con una prestazione effettuata dal sovraordinato
 - D No, mai

D00035

35

In base al Codice di comportamento del personale del sistema Regione e delle società partecipate della Sardegna, il personale, se risulta destinatario di atti, relativi a condotte rilevanti sul piano penale, per i quali la normativa preveda l'applicazione di provvedimenti di natura cautelare o disciplinare:

- A** deve comunicarlo all'Amministrazione tempestivamente e per iscritto
- B** deve comunicarlo all'Amministrazione per iscritto entro la fine del procedimento penale
- C** deve comunicarlo all'Amministrazione tramite una piattaforma telematica entro al fine del procedimento penale
- D** non deve comunicarlo all'Amministrazione

D00036

36

In base al Codice di comportamento del personale del sistema Regione e delle società partecipate della Sardegna, il personale ha l'obbligo di comunicare all'Amministrazione il mutamento della propria residenza?

- A** Sì, tempestivamente
- B** Sì, ma solo se il mutamento non è temporaneo
- C** Solo il personale dirigenziale
- D** No, non ha questo obbligo

D00037

37

In base allo Statuto della Regione Sardegna (l. cost. 3/1948), costituiscono entrate della Regione ... del gettito delle imposte sul consumo dell'energia elettrica.

- A** i nove decimi
- B** i sette decimi
- C** i cinque decimi
- D** i dieci decimi

D00038

38

In base allo Statuto della Regione Sardegna (l. cost. 3/1948), il Consiglio regionale può essere sciolto per tutte le seguenti ragioni, TRANNE una. Quale?

- A** In caso di dissesto finanziario
- B** Quando, nonostante la segnalazione fatta dal Governo della Repubblica, il Consiglio non proceda alla sostituzione della Giunta regionale che abbia compiuto atti contrari alla Costituzione
- C** In caso di rimozione del Presidente della Regione, se eletto a suffragio universale e diretto
- D** Per ragioni di sicurezza nazionale

D00039

39

In base allo Statuto della Regione Sardegna (l. cost. 3/1948), l'iniziativa legislativa spetta a tutti i seguenti, TRANNE:

- A** ai Comuni capoluogo
- B** alla Giunta regionale
- C** ai membri del Consiglio
- D** al popolo sardo

D00040

40

In base alla legge 1/1977 della Regione Sardegna, tutti i seguenti sono Assessorati, TRANNE:

- A** diritti civili e pari opportunità
- B** difesa dell'ambiente
- C** industria
- D** trasporti


- 41 "Non esiste alcun elemento probatorio che consenta di eliminare la possibilità che l'imputato sia estraneo al fatto".
Dalla precedente affermazione si deduce che:
- A** è possibile che l'imputato sia estraneo al fatto
 - B** vi sono prove sull'estraneità dell'imputato al fatto
 - C** è impossibile che l'imputato sia estraneo al fatto
 - D** l'imputato non è estraneo al fatto

- 42 "Se e solo se non lancio il sasso la finestra non si rompe". Se la precedente affermazione è vera, allora è FALSO che:
- A** se lancio il sasso la finestra può non rompersi
 - B** è condizione necessaria e sufficiente che non lanci il sasso affinché la finestra non si rompa
 - C** se lancio il sasso la finestra si rompe
 - D** se la finestra si rompe è perché ho lanciato il sasso

- 43 "Alessandro è appassionato di fotografia. Gli appassionati di fotografia amano la musica. Tutti i medici sono appassionati di fotografia". In base alle precedenti informazioni, quale delle seguenti affermazioni è certamente vera?
- A** Alessandro ama la musica
 - B** Alessandro è un medico
 - C** Alcuni medici non amano la musica
 - D** Chi ama la musica è appassionato di fotografia

- 44 Quale, tra i termini proposti, completa correttamente la seguente proporzione verbale? Meticolosità : X = elastico : rigido
- A** X = superficialità
 - B** X = minerale
 - C** X = puntualità
 - D** X = rotto

FIGURA TP 51

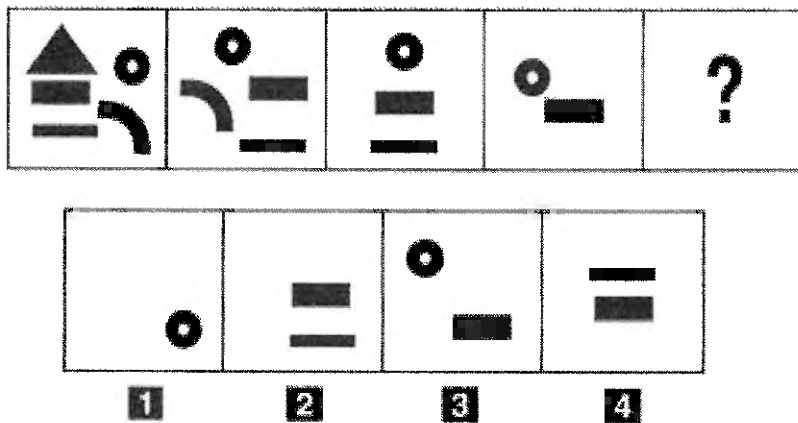


45 Rispondere al seguente quesito facendo riferimento alla FIGURA TP 51
Quale figura completa la serie?

D00045

- A Figura 2
- B Figura 3
- C Figura 1
- D Figura 4

FIGURA ST 46

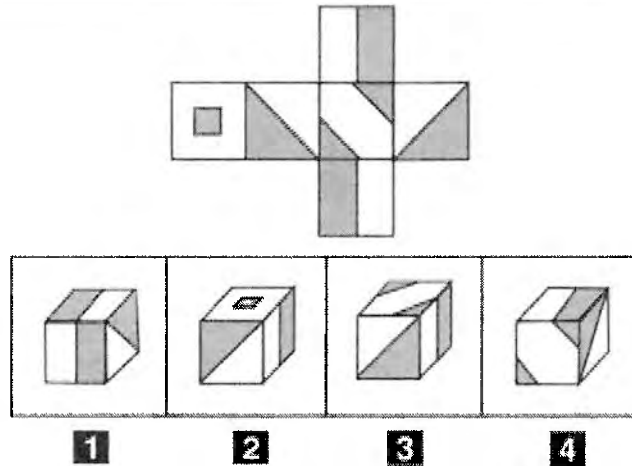


46 Rispondere al seguente quesito facendo riferimento alla FIGURA ST 46
Individuare la figura che completa correttamente la serie.

D00046

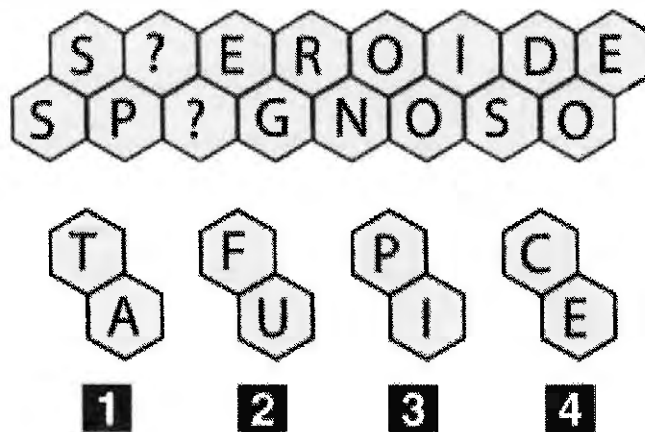
- A Figura 1
- B Figura 2
- C Figura 3
- D Figura 4

FIGURA SZ 05



- 47 Rispondere al seguente quesito facendo riferimento alla FIGURA SZ 05 D00047
 Quale delle figure proposte corrisponde alla composizione volumetrica della figura piana riprodotta in alto?
A Figura 2
B Figura 1
C Figura 3
D Figura 4

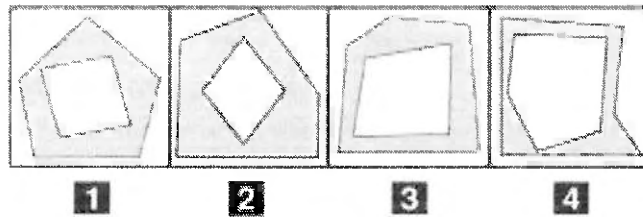
FIGURA TP 98



- 48 Rispondere al seguente quesito facendo riferimento alla FIGURA TP 98 D00048
 In quale dei tasselli proposti sono contenute le due lettere mancanti che permettono di comporre parole di senso compiuto?
A Nel tassello 2
B Nel tassello 1
C Nel tassello 3
D Nel tassello 4

I00038

FIGURA SZ 60



49 Rispondere al seguente quesito facendo riferimento alla FIGURA SZ 60
Individuare la figura da scartare.

D00049

- A Figura 4
- B Figura 1
- C Figura 2
- D Figura 3

DIAGRAMMA RY 00

Individuare la relazione insiemistica esistente tra i termini dati.



DIAGRAMMA 1



DIAGRAMMA 2




DIAGRAMMA 3



DIAGRAMMA 4



DIAGRAMMA 5



DIAGRAMMA 6

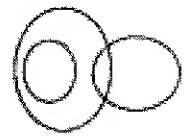


DIAGRAMMA 7

50 Rispondere al seguente quesito facendo riferimento al DIAGRAMMA RY 00
Cinesi, Piloti, Italiani

D00050

- A Diagramma 3
- B Diagramma 5
- C Diagramma 6
- D Diagramma 1

51 Nel lancio di un dado che probabilità c'è che esca un numero divisibile per tre?

D00051

- A 1/3
- B 5/6
- C 1/2
- D 2/3

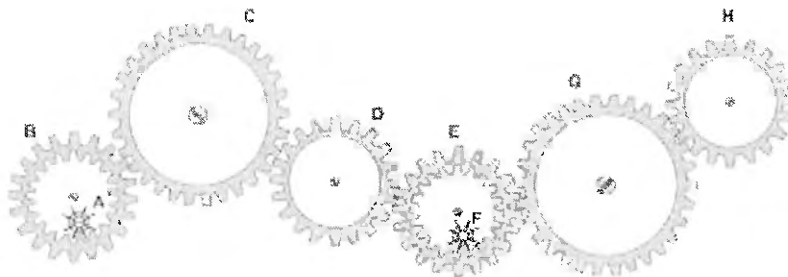
- 52 Un capitale di 300.000 euro è depositato in banca ed è soggetto a un interesse annuo del 5%. A quanto ammonterà il capitale dopo un anno?
- A** 315.000 euro
 - B** 305.000 euro
 - C** 350.000 euro
 - D** 355.000 euro

- 53 Il peso lordo di un container è di 9.000 kg e la tara è pari al 7%; il peso netto sarà quindi di kg:
- A** 8.370
 - B** 9.630
 - C** 630
 - D** 6.300

- 54 Barbara e Rino tinteggiano un muretto di 30 metri. Per tinteggiare un metro di muretto, Barbara impiega 30 minuti mentre Rino procede a una velocità superiore del 50%. Quante ore di lavoro saranno necessarie a tinteggiare tutto il muretto?
- A** 6
 - B** 8
 - C** 5
 - D** 1,5

FIGURA ST 86

Nel sistema raffigurato, le ruote dentate sono libere di ruotare attorno a un perno fisso.



- 55 Rispondere al seguente quesito facendo riferimento alla FIGURA ST 86
- Se la ruota dentata E gira in senso orario, in quale senso gira la ruota dentata H?
- A** Nello stesso senso della ruota dentata C
 - B** In senso antiorario
 - C** In senso inverso rispetto al piccolo ingranaggio F
 - D** Il sistema di ingranaggi non può funzionare

56

Se le lancette di un orologio segnano le 15.45 di martedì, tra 40 ore e 15 minuti saranno:

- A** le 8.00 di giovedì
- B** le 19.00 di mercoledì
- C** le 3.00 di giovedì
- D** le 3.00 di venerdì

57

In un ipotetico linguaggio in codice, alla parola AIUTARE corrisponde il codice ATAITIUTUTATARETE e alla parola LIEVE corrisponde il codice LITIETEVETE. Come si scriverà, nel medesimo codice, la parola COPIA?

- A** COTOPITIATA
- B** COTOPTITATA
- C** COTOPITITATA
- D** COTPOITIATA

58

Un nuovo gioco ha le seguenti regole: se un numero è divisibile per 3 vale 4 punti; se è divisibile per 5 vale 2 punti; se è divisibile per 7 vale 3 punti. In base a tali regole, quanto vale il numero 49?

- A** 3 punti
- B** 7 punti
- C** 2 punti
- D** 5 punti

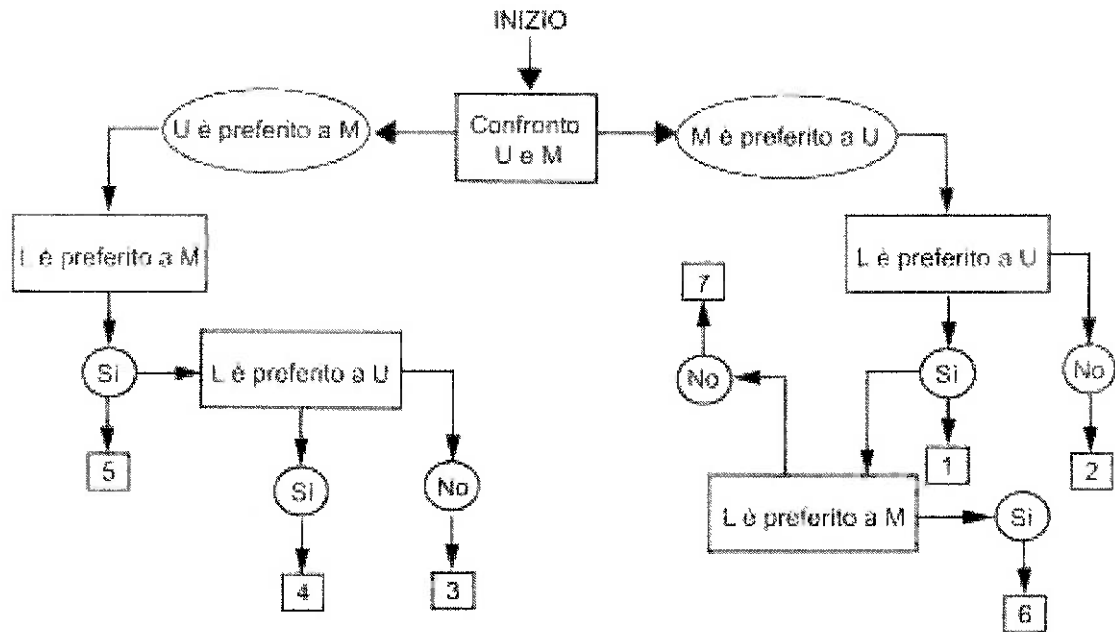
59

Completare correttamente la seguente successione, utilizzando l'alfabeto italiano: Q; 38; S; 35; V; 33; A; 30; ?; ?

- A** D; 28
- B** C; 28
- C** D; 27
- D** C; 27

DIAGRAMMA SZ 11

All'esame di Stato, Marco dovrà presentare una tesi che coinvolga tutte le materie di studio. Decide di iniziare il lavoro seguendo le sue preferenze. Il confronto avviene valutando a due a due tre discipline, giudicandone sempre una come preferita all'altra e mai due come ugualmente preferite. L'obiettivo quindi è stabilire un ordine di preferenza. U = discipline umanistiche, M = discipline matematiche, L = discipline linguistiche.



60

Rispondere al seguente quesito facendo riferimento al DIAGRAMMA SZ 11
Indicare l'ordine di preferenza risultante alla casella "6" del diagramma.

D00060

- A** LMU
- B** MUL
- C** LUM
- D** È possibile più di un ordine

